

新疆维吾尔自治区
新疆生产建设兵团

2023 年初中学业水平考试

道德与法治试题卷(开卷)

(本卷满分:75 分 考试时间:60 分钟)

题号	—	二			总分
		16	17	18	
得分					

一、单项选择题(本大题共 15 小题,每小题 2 分,共 30 分。请按答题卷中的要求作答)

1. 2022 年 10 月 16 日至 22 日,中国共产党第二十次全国代表大会在北京人民大会堂举行。习近平总书记

总书记在党的二十大报告中强调,从现在起,中国共产党的中心任务就是团结带领全国各族人民

全面建成社会主义现代化强国、实现第二个百年奋斗目标,以_____全面推进中华民族伟大复兴。

()

- A. 全过程人民民主
B. 科学发展观
C. 中国式现代化
D. 人类命运共同体

2. 2022 年 6 月 17 日,我国第三艘航空母舰下水,“_____”,舷号为“18”,这是我国完全自主设计

建造的首艘弹射型航空母舰。

()

- A. 辽宁舰
B. 福建舰
C. 山东舰
D. 南昌舰

3. 2022 年 7 月 12 日至 15 日,习近平总书记在新疆考察时指出,要以增强认同感为目标,深入开展

_____。文化认同是最深层次的认同。

()

- A. 文化润疆
B. 长期建疆
C. 依法治疆
D. 富民兴疆

4. 漫画《竞争与友谊》给我们的启示有 ()

- ①竞争并不必然伤害友谊
②竞争会破坏和失去友谊
③竞争与友谊不可以兼得
④竞争中欣赏朋友的成绩

- A. ①③
B. ①④
C. ②③
D. ②④



5. 2023 年春晚歌曲《是妈妈是女儿》引发了观众的共情和共鸣。对此,七年级(2)班发起了“新的一

年,最想对爸妈说的话”征集活动。下列同学的表白能入选该活动的是 ()

- ①家是幸福的港湾,有你们真好
②我已长大,一切请让我自己作主
③是你们给了我生命,我爱你们
④爸妈辛苦了,我会事事顺从你们

- A. ①②
B. ①③
C. ②④
D. ③④

6. 青春有格,这里的“格”所表达的是 ()

- A. 飞扬青春 善待青春
B. 墨守成规 循规蹈矩
C. 行己有耻 止于至善
D. 我行我素 唯我独尊

7. “神舟十五号”航天员乘组进行第二次出舱活动。在地面工作人员和舱内航天员邓清明的密切配

合下,出舱航天员费俊龙、张陆圆满完成全部既定工作任务。这说明 ()

- A. 共同制定规则,保持团体稳定
B. 凝聚共同愿景,建立竞争机制
C. 发挥自身才能,坚持个人主义
D. 围绕共同目标,善于合作分工

8. 道德是社会关系的基石,是人际和谐的基础。以下对微行为点评正确的是 ()

序号	微行为	点评
①	小超耐心等待服务员引导候机,并对他说:“辛苦了”	换位思考,尊重他人
②	小芳向来访家中的客人问好并主动递上茶水	举止稳重,诚信待人
③	小林主动担任舞蹈队队长,牺牲休息时间编排舞蹈	不言代价,勇担责任
④	小娟把压岁钱和珍爱的书籍捐给贫困山区孩子	心怀善意,关爱他人

- A. ①②③
B. ①②④
C. ①③④
D. ②③④

9. 某校劳动课教师对同学们的“劳动观”进行问卷调查,下列观点你赞成的是 ()

- ①劳动是财富的源泉和幸福的源泉
②崇尚劳动,在创造和奉献中实现人生价值
③脑力劳动者比体力劳动者地位高
④参与劳动实践会耽误休息和学习时间

- A. ①②
B. ①④
C. ②③
D. ③④

10. 2023 年 3 月 5 日至 13 日,第十四届全国人民代表大会第一次会议在人民大会堂举行,会议审议

通过了《政府工作报告》《最高人民法院工作报告》《最高人民检察院工作报告》。这体现了

()

- ①国家权力机关对其他国家机关负责
②国家一切权力属于人民的宪法原则
③权力机关在国家机构中居主导地位
④我国国家机构实行民主集中制原则

- A. ①②③
B. ①②④
C. ①③④
D. ②③④

11. 新修订的《铁路旅客运输规程》规定,区分车票实名制和非实名制的情形,分别按照年龄和身高销

售儿童票,为儿童购票乘车提供切实优惠和便利。这一变化 ()

- ①体现了平等的不同情况差别对待
②说明规则不是一成不变的
③反映了个人维护公平、守护正义
④表明儿童享有物质帮助权

- A. ①②
B. ③④
C. ①③
D. ②④

12. 近年来,教育部等部门联合印发了一系列关于《援藏援疆万名教师支教计划实施方案》,帮助西

藏、新疆整体提升教育发展水平。国家重视教育事业发展是因为 ()

- ①教育是引领发展的第一动力
②发展教育是现阶段的中心工作
③教育能够促进人的全面发展
④教育是民族振兴、社会进步的基石

- A. ①② B. ②③ C. ①④ D. ③④

13. 2023 年是毛泽东等老一辈革命家为雷锋同志题词 60 周年。雷锋干一行爱一行、专一行精一行。这体现出的社会主义核心价值观中公民层面的价值要求是 ()

- A. 爱国 B. 敬业 C. 和谐 D. 友善

14. 2023 年 3 月 10 日,在中国的积极斡旋下,曾为“宿敌”的沙特阿拉伯与伊朗两国冰释前嫌,恢复了外交关系,这是我国有力践行全球安全倡议的一次成功实践,体现出中国 ()

- A. 把握世界发展趋势,谋求自身发展
B. 坚持合作共赢,建设共同繁荣的世界
C. 主动参与国际竞争,增强综合国力
D. 积极参与全球治理,彰显中国担当

15. 新版职业分类大典净增了 158 个职业,让越来越多的新兴职业有了权威“身份证”。新兴职业增加了就业新机遇。这告诉我们 ()

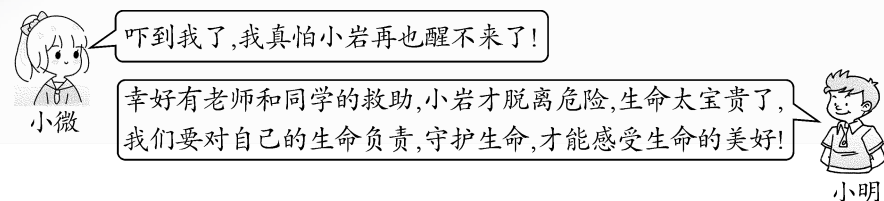
- A. 依据个人兴趣爱好进行职业选择
B. 脚踏实地才能成就一番事业
C. 要顺应时代的变化做好职业准备
D. 新兴职业逐渐取代传统职业

二、非选择题(本大题共 3 小题,其中第 16 小题 14 分,第 17 小题 16 分,第 18 小题 15 分,共 45 分)

16. 阅读材料,运用所学知识回答下列问题。(14 分)

材料一 新修订的体育法保障学生的锻炼权;学校组织学生进行消防安全演练;司法机关封存未成年人犯罪记录档案;父子一起参加社区组织的公益活动……全社会合力为未成年人撑好“保护伞”。

材料二 小岩常常半夜悄悄起来看玄幻小说,早上不吃饭就去学校上课。一天,他在体育课上跑步时突然晕倒在地,老师和两名有急救经验的同学迅速上前施救,最终小岩转危为安。对此,同学们发表了自己的看法。



(1) 阅读材料一,请你简要说明全社会合力为未成年人撑好“保护伞”的理由,并写出我国保护未成年人的专门法律。(7 分)

(2) 阅读材料二,两位同学的对话对我们敬畏生命,守护生命有哪些启示?(7 分)

17. 阅读材料,运用所学知识回答下列问题。(16 分)

2022 年是现行宪法公布施行 40 周年,宪法宣传周的主题为“学习贯彻党的二十大精神,推动全面贯彻实施宪法”。

【看图说宪法】

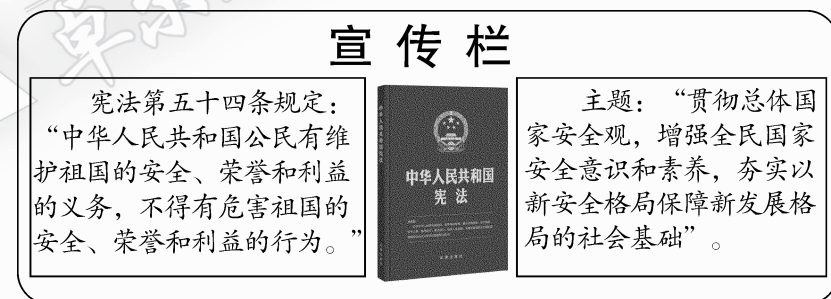


【我学二十大】

党的二十大报告指出:“坚决维护国家安全和社会稳定。”只有汇聚起维护国家安全的强大力量,夯实国家安全的社会基础,才能不断提高人民群众的安全感、幸福感。实现中华民族伟大复兴离不开国家安全的保障。

【学法见行动】

2023 年 4 月 15 日是第八个全民国家安全教育日,一位同学在学校宣传栏中看到以下内容:



(1) 【看图说宪法】中的图片体现了教材中的哪些观点?(5 分)

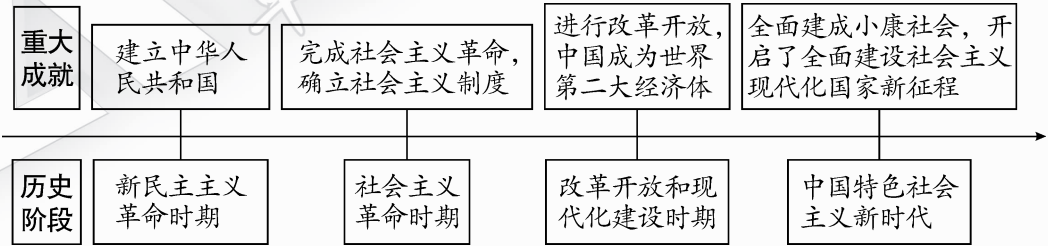
(2) 阅读【我学二十大】内容,谈谈你对“实现中华民族伟大复兴离不开国家安全的保障”的理解。(6 分)

(3) 观察宣传栏,从履行公民义务的角度,说说在维护国家安全方面你能承担哪些责任。(5 分)

18. 阅读材料,运用所学知识回答下列问题。(15 分)

【百年历程】

党和人民百年奋斗历程,书写了中华民族几千年来历史上最恢宏的史诗,新时代的十年再次印证了我国发展奇迹的“中国路径”。



(1) 中华民族矢志不渝的奋斗目标是什么? 概括为实现这一目标中国所选择的路径。(6 分)

【十年变化】

党的十八大以来,虽然时间短暂,却发生了许多巨变。中学生小杰以“走近十年,走进发展”为学习主题,收集了两组资料:

经济新突破	绿色筑家园
这十年,经济总量由2012 年53.9 万亿元上升到2021 年114.4 万亿元。 我国对世界经济增长的平均贡献率达38.6%,超过 G7 国家贡献率的总和,对世界经济的贡献率居世界第一。	这十年,我国加强污染防治,美丽中国建设迈出重大步伐,天更蓝了,山更绿了,水更清了。 十年来,我国累计完成造林9.6 亿亩,创造了举世瞩目的生态奇迹和绿色发展奇迹,为地球增添了更多“中国绿”,既造福了中国,也造福了世界。

(2) 从以上两则资料中任选其一,运用所学知识谈谈其变化的具体原因及积极影响。(5 分)

【共圆梦想】

(3) 实现中华民族伟大复兴,是国家的梦、民族的梦,也是每个中国人的梦。同学们纷纷表示,要共圆中国梦,共享美好人生。请你就此完成自己的圆梦计划书。(4 分)

圆梦计划书

中国梦:实现中华民族伟大复兴,实现国家富强、民族振兴、人民幸福。

我的梦:

我的圆梦方案:

新疆维吾尔自治区
新疆生产建设兵团

2022 年初中学业水平考试

道德与法治试题卷(开卷)

(本卷满分:75 分 考试时间:60 分钟)

题号	—	二			总分
		16	17	18	
得分					

一、单项选择题(本大题共 15 小题,每小题 2 分,共 30 分。请按答题卷中的要求作答)

1. 中国共产党第十九届中央委员会第六次全体会议于 2021 年 11 月 8 日至 11 日在北京召开,全会审议通过了_____,决定于 2022 年下半年在北京召开中国共产党第二十次全国代表大会。()
- A.《关于若干历史问题的决议》
B.《关于建国以来党的若干历史问题的决议》
C.《中共中央关于全面深化改革若干重大问题的决定》
D.《中共中央关于党的百年奋斗重大成就和历史经验的决议》
2. 2022 年 3 月 23 日,“天宫课堂”第二课开讲,“太空讲师”____、____、叶光富在中国空间站进行太空授课,演示了太空“冰雪”实验、水油分离实验、太空抛物实验等。()
- A. 翟志刚 王亚平
B. 聂海胜 刘伯明
C. 杨利伟 汤洪波
D. 景海鹏 刘洋
3. 2021 年 8 月 27 日至 28 日,中央民族工作会议在北京召开。习近平总书记出席会议并发表重要讲话,强调做好新时代党的民族工作,要把_____作为党的民族工作的主线。()
- A. 增强政治意识
B. 铸牢中华民族共同体意识
C. 增强大局意识
D. 实现社会稳定和长治久安
4. 奥运赛场没有常胜将军。无论是初出茅庐的小将苏翊鸣,还是身经百战的老将徐梦桃,每位奥运健儿都在用自己的拼搏精神诠释着对梦想的追求。对此理解正确的是()
- A. 只要坚持付出努力,梦想的实现就轻而易举
B. 梦想如果实现不了,平时的努力就黯然失色
C. 梦想可望而不可即,现实常常会把梦想打败
D. 努力是一种生活态度,是梦想与现实的桥梁
5. 右图漫画《榜样》启示我们()
- A. 家是我们身心的寄居之所
B. 家是我们心灵的港湾
C. 尽孝在当下,用行动表达孝敬之心
D. 成年子女才有赡养扶助父母的义务



6. 江梦南半岁双耳失聪,通过读唇语一路奋斗成为清华博士。她秉持着解决“生命难题”的信念,以异于常人的坚韧人生“感动中国”。她的经历说明了()
- ①生命是脆弱的、渺小的
②要发掘自己的生命力量
③自强要靠坚强的意志
④自强的态度助力青春成长
- A. ①②③
B. ②③④
C. ①②④
D. ①③④
7. 2022 年 2 月 6 日,中国女足在亚洲杯决赛中不畏强手,依靠团队配合打进决胜一球,最终获得冠军。这场胜利告诉我们()
- ①集体力量完全取决于成员数量的多少
②把个人融入到集体中,定能取得事业成功
③个人力量通过优化组合,会产生强大合力
④集体荣誉是集体成员共同奋斗的结果
- A. ①②
B. ①③
C. ②④
D. ③④
8. 右面漫画蕴含的道理是()
- ①诚信是一个人安身立命之本
②社会是复杂的,不诚信是正常的
③不讲诚信是损人利己的行为
④每个人都应珍惜个人的诚信记录
- A. ①③
B. ②④
C. ①④
D. ②③
9. “人民楷模”国家荣誉称号获得者布茹玛汗·毛勒朵,用双脚丈量祖国边境线 58 载,刻下带有“中国”二字的石头十多万块。她说:“边境安宁了,祖国安定了,我们就能像现在这样日益昌盛,过上富裕好日子。”从中我们可以感受到()
- A. 维护国家安全和利益是公民权利
B. 国家安全是人民幸福安康的前提
C. 人民利益是国家利益的集中表现
D. 维护民族团结是人民的共同愿望
10. 2022 年 3 月 11 日,第十三届全国人民代表大会第五次会议表决通过了关于《政府工作报告》的决议。材料体现了()
- A. 全国人民代表大会是最高国家权力机关
B. 全国人民代表大会行使最高立法权
C. 全国人民代表大会是最高国家行政机关
D. 人民代表大会制度是我国的基本政治制度
11. 公平正义是人类追求的永恒目标,是法治社会的核心价值。下列做法与坚守公平要求不相符的是()
- A. 国家保障城乡居民养老保险全覆盖
B. 某商家利用虚假广告误导顾客消费
C. 国家大力推进义务教育均衡发展
D. 小军在公共场所遵守规则自觉排队
12. 百年征程波澜壮阔,百年初心历久弥坚。中国共产党秉持的初心和使命是()
- A. 为中国人民谋幸福 促进人的全面发展
B. 全面建成小康社会 全面推进依法治国
C. 为中国人民谋幸福 为中华民族谋复兴
D. 全面建成小康社会 全面推进乡村振兴
13. 2021 年 11 月,世界知识产权组织发布年度《世界知识产权指标》报告显示,2020 年,中国在专利、商标、工业品外观设计等方面知识产权申请量均居世界首位,展现出强劲的创新活力。这主要得益于我国坚持()
- ①创新驱动发展战略
②科教兴国战略 人才强国战略
③区域协调发展战略
④乡村振兴战略 健康中国战略

- A. ①② B. ①③ C. ②④ D. ③④

14. 从“二十四节气”开启冬奥会开幕式倒计时,到“黄河之水天上来”幻化成破冰五环;从“二十四节气”画面带出的古诗词,到以“燕山雪花大如席”创意的主火炬……中国的文化元素贯穿于整个开幕式的始终。这样做 ()

- ①传承了全部中华传统文化,坚定了文化自信
②有利于弘扬源远流长、博大精深的中华文化
③推动中华文化走向世界,提升中华文化的国际影响力
④推动中华优秀传统文化实现创造性转化和创新性发展

- A. ①②③ B. ①②④ C. ①③④ D. ②③④

15. 《左传》中“亲仁善邻,国之宝也”这句话启示我们面对当今世界复杂局势,应该 ()

- ①追求和平发展,主导世界政治新格局 ②追求经济发展,而不必讲究睦邻友好
③坚持对话协商,建设持久和平的世界 ④坚持合作共赢,与各国共享发展成果

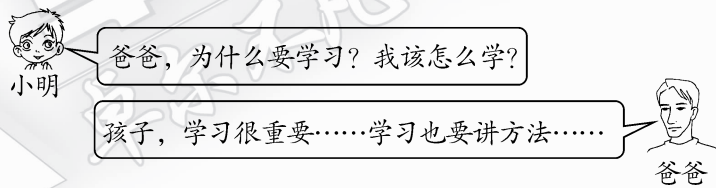
- A. ①③ B. ②④ C. ③④ D. ①④

二、非选择题(本大题共3小题,其中第16小题14分,第17小题16分,第18小题15分,共45分)

16. 阅读材料,运用所学知识回答下列问题。(14分)

材料一 2021年10月23日,第十三届全国人民代表大会常务委员会第三十一次会议通过了《中华人民共和国家庭教育促进法》。这是国家首次为家庭教育专门立法,家长进入了“依法带娃”时代。该法规定了家庭教育的方式,明确了父母或者其他监护人的责任。

材料二 从“双减”到“依法带娃”,中小学生成为最大的受益者。在丰富多彩的生活中,孩子的学习成为家庭教育必谈的话题。以下是小明与爸爸的对话:



(1)材料一具体体现了法律的哪一特征和哪一作用?(6分)

(2)请你补充完整爸爸的观点。(8分)

学习很重要_____

学习讲方法_____

17. 阅读材料,运用所学知识回答下列问题。(16分)

材料一 网络的世界很神奇,老百姓上了网,民意也就上了网。人大代表们将互联网作为履职尽责的平台和利器,注重通过网络搜集社情民意。中国政府网开设“我向总理说句话”常设栏目,公民也通过网络积极建言献策、参政议政,这让百姓的电脑桌与总理的办公桌实现了零距离接触。

材料二 2021年11月19日,首届中国网络文明大会在北京举办,其主题为“汇聚向上向善力量,携手建设网络文明”。青少年的网络文明也成为一个重要议题,《提升全民数字素养与技能行动纲要》强调,要不断提升青少年网络素养。

(1)阅读材料一,人大代表们为什么要通过网络搜集社情民意?(4分)

(2)公民积极建言献策是在行使哪项权利?公民行使这一权利有什么意义?(8分)

(3)网聚正能量,共绘同心圆。阅读材料二,利用互联网传播正能量,你会怎么做?(4分)

18. 阅读材料,运用所学知识回答下列问题。(15分)

全面建成小康社会的梦想已经成真,中华民族伟大复兴的梦想正在实现,看中国少年,风华正茂,自信昂扬,且到中流击水,与祖国共成长。

【逐梦前行】

在“两个一百年”奋斗目标的历史交汇点上,以习近平同志为核心的党中央以远见卓识和使命担当,擘画宏伟蓝图,团结带领全国人民向着第二个百年奋斗目标奋勇前进。

(1)请在以下①②处填入相关的内容。(4分)

两个百年	时间	目标
第一个百年	建党一百年	全面建成小康社会
第二个百年	第一阶段(①)	基本实现社会主义现代化
	第二阶段(2035年—本世纪中叶)	
		②

【久久为功】

面对百年变局和世纪疫情,2021年中国交出了一份人民满意、世界信任的答卷:
我国经济发展保持全球领先地位,高质量发展取得新成效,国内生产总值(GDP)达114.4万亿元;
法治中国建设迈出坚实步伐,党运用法治方式领导和治理国家的能力显著增强;
人类的命运彼此相依,未来需要共同守望。在全球疫情防控中,中国累计向120多个国家和国际组织捐赠超20亿剂新冠疫苗。

(2)结合材料,谈谈中国为什么能交出让人民满意、世界信任的答卷。(6分)

【走向未来】

(3)“请党放心 强国有我”是我们青少年向党致以的青春礼赞。让我们带着自信、带着憧憬向未来出发!请对自己的人生规划作出描述。(5分)

初中毕业后我的选择:_____

_____。

面对这份选择我该做好的准备:_____

_____。

新疆维吾尔自治区
新疆生产建设兵团

2021 年初中学业水平考试·道德与法治

考生须知:

1. 本试卷满分 75 分,考试时间 60 分钟。
2. 考试时,考生可带教材及相关资料;遵守考场纪律,独立完成考试。
3. 答卷时请用钢笔或中性笔先将密封线内的项目填写清楚,然后将答案填写在试卷相应的位置上。

题号	第一部分	第二部分			总分
		16	17	18	
得分					

第一部分(选择题 共 30 分)

一、单项选择题(本大题共 15 小题,每小题 2 分,共 30 分)

1. 2021 年 2 月,国家主席习近平在全国_____总结表彰大会上庄严宣告,经过全党全国各族人民共同努力,完成了消除绝对贫困的艰巨任务,创造了又一个彪炳史册的人间奇迹! ()
A. 劳动模范 B. 先进工作者 C. 脱贫攻坚 D. 精神文明建设
2. 2020 年 9 月,在全国抗击新冠肺炎疫情表彰大会上,_____被颁授“共和国勋章”。 ()
A. 申纪兰 B. 屠呦呦 C. 黄旭华 D. 钟南山
3. 第三次中央新疆工作座谈会指出,当前和今后一个时期,做好新疆工作,要完整准确贯彻依法治疆、团结稳疆、_____,_____、长期建疆的新时代党的治疆方略。 ()
A. 关注民生 促进就业 B. 文化润疆 富民兴疆
C. 科技创新 教育强疆 D. 产业发展 乡村振兴
4. “知之者,不如好之者;好之者,不如乐之者。”这句话告诉我们,学会学习需要 ()
A. 发现并保持对学习的兴趣 B. 掌握科学的学习方法
C. 善于运用不同的学习方式 D. 树立终身学习的观念
5. “人最宝贵的是生命。生命每个人只有一次。”面对生命,我们要 ()
①正确对待挫折,增强生命的韧性
②珍惜自己的生命,不顾及他人的生命
③敬畏生命,尊重、关注、关怀和善待身边的每一个人
④将自己的生命与他人的、集体的、国家的命运联系在一起
A. ①②④ B. ②③④ C. ①②③ D. ①③④
6. 如果把个人比作单音,集体比作和声,那么,要让集体的和声更美,我们应 ()
①对集体要求中存在的不合理因素置之不理
②识大体、顾大局,不做有损集体利益的事情
③尽力做好自己,遵守规则,以保持和声的和谐之美
④在集体利益和个人利益发生冲突时,以个人利益为重
A. ①② B. ①③ C. ②③ D. ②④

7. 下列事件能体现法律最主要特征的是 ()
A. 某校开展“与法同行”知识竞赛
B. 仇某在网上侮辱戍边英雄被刑事拘留
C. 新修订的动物防疫法明确要求出门遛狗要系绳
D. 新修改的国旗法、国徽法于 2021 年 1 月 1 日起施行
8. 2021 年 3 月,某市人民法院审理了一起高空抛物案件,被告人徐某犯高空抛物罪被判处有期徒刑 6 个月,并处罚金 2 000 元。由此可见 ()
①徐某的行为属于行政违法行为 ②徐某的行为具有严重社会危害性
③我们要增强法治观念,依法自律 ④人民法院依法履职,维护了社会公平正义
A. ①②③ B. ①②④ C. ①③④ D. ②③④
9. 2020 年 10 月 23 日,国家主席习近平出席纪念中国人民志愿军抗美援朝出国作战 70 周年大会,并发表重要讲话指出,我们决不会坐视国家主权、安全、发展利益受损,决不会允许任何人任何势力侵犯和分裂祖国的神圣领土。对此理解正确的是 ()
①维护国家利益是每个公民义不容辞的责任
②国家安全是国家核心利益的唯一内容
③无论何时何地,都应把国家利益放在第一位
④国家主权、安全、发展利益关系民族生存、国家兴亡
A. ①③④ B. ②③④ C. ①②④ D. ①②③
10. 民法典第一章第一条规定,“根据宪法,制定本法”。这体现了 ()
A. 宪法的生命在于实施 B. 宪法是一切法律的总和
C. 宪法具有最高的法律效力 D. 宪法规定了国家生活中的根本问题
11. 2021 年是政协新疆维吾尔自治区委员会成立 70 周年。70 年来,在中国共产党的领导下,新疆政协坚持人民政协为人民,围绕_____两大主题履行职能,为促进新疆经济社会发展发挥了重要作用。 ()
A. 团结和民主 B. 稳定和团结 C. 协商和发展 D. 发展和稳定
12. 春节是中国的传统节日,今天越来越多的国家庆祝中国春节。这一现象 ()
①有利于坚定我们的文化自信 ②有利于弘扬中华优秀传统文化
③说明中华文化是世界上最优秀的文化 ④体现了中国文化对世界的影响越来越大
A. ①②③ B. ①②④ C. ②③④ D. ①③④
13. 2021 年 5 月,第七次全国人口普查主要数据结果发布。下表数据反映出我国人口现状的特点是 ()

项目	第六次人口普查	第七次人口普查
人口总数(万)	133 972	141 178
人口年平均增长率	0.57%	0.53%
60 岁以上人口比重	13.34%	18.70%

①人口基数大 ②人口素质偏低 ③老龄化加剧 ④总人口增速趋缓
A. ①②③ B. ①③④ C. ②③④ D. ①②④

14. 2021 年 5 月初,“和田断臂男孩获救”的消息冲上热搜。“为了救孩子,飞机都能叫回来,大夫和护士就像亲人。我们的国家太好了,生活在这里太幸福了!”孩子的妈妈苏迪乌麦激动地说。从和田到乌鲁木齐,跨越 1 400 多公里、历时 7 个小时的陆空接力和生死救援,只为保住七岁男孩小麦(化名)的右臂。我们从中感受到 ()

- ①中国特色社会主义制度的优越性
- ②我国坚持各民族共同繁荣的基本原则
- ③新疆各族人民手足相亲、互帮互助的和谐关系
- ④新疆各族群众基本人权得到充分保障的真实状况

A. ①②④ B. ②③④ C. ①③④ D. ①②③

15. 2021 年,中国积极参与世界卫生组织的“新冠肺炎疫苗实施计划”,承诺将尽己所能对外提供更多疫苗,推进国际抗疫合作,推动构建人类卫生健康共同体。这说明我国 ()

- ①主导世界发展,提升大国地位
- ②谋求团结合作,助力全球抗疫
- ③承担大国责任,贡献中国力量
- ④展现大国风范,彰显中国智慧

A. ①③④ B. ①②④ C. ①②③ D. ②③④

第二部分(非选择题 共 45 分)

二、非选择题(本大题共 3 小题,每小题 15 分,共 45 分)

16. (15 分)阅读材料,运用所学知识回答下列问题。

近期,根据教育部的要求,全疆各学校以各种活动开展党史学习教育,同学们踊跃参加。

材料一 石河子某中学九年级(3)班将课堂搬到军垦博物馆,同学们在聆听讲解、参观展览的过程中,被老一辈军垦人开荒屯田、建设家乡的事迹所感动,纷纷立下了向先辈学习、报效祖国的志向,决心做更好的自己。

材料二 库尔勒某中学开展“讲红色故事”比赛,有的同学讲述了战斗英雄董存瑞、黄继光的故事,有的同学讲述了“共和国勋章”获得者袁隆平、于敏的故事,有的同学讲述了“时代楷模”张桂梅、拉齐尼·巴依卡的故事……这些英雄模范是共和国闪亮的星,是我们学习的榜样,为我们的青春成长指明了方向。

(1)阅读材料一,说明青少年应该怎样做更好的自己。(7 分)

(2)“榜样的力量是无穷的”,结合上述材料说明这一观点的正确性。(6 分)

(3)请你为所在学校开展党史学习教育设计两条宣传标语。(2 分)

17. (15 分)阅读材料,运用所学知识回答下列问题。

材料一 2020 年 7 月,习近平总书记给中国石油大学克拉玛依校区毕业生回信,肯定他们到边疆基层工作的选择,希望广大高校毕业生勇担时代使命,积极服务社会,为党、为祖国、为人民多做贡献。大学生们倍感振奋,表示一定不辜负党和人民的嘱托。

材料二 2021 年,《中小学生教育惩戒规则(试行)》《关于加强中小学生手机管理工作的通知》,以及新修订的未成年人保护法和预防未成年人犯罪法等一系列法律法规陆续实施。

(1)阅读材料一,总书记的回信对我们服务和奉献社会有什么启示?(6 分)

(2)针对材料二,有同学说,这些法律的颁布和实施,会让我们越来越没有自由。你同意这一观点吗?请简要说明理由。(9 分)

18. (15 分)阅读材料,运用所学知识回答下列问题。

2021 年是“十四五”规划的开局之年,高质量发展是“十四五”乃至更长时期我国经济社会发展的主题,关系我国社会主义现代化建设全局。

材料一 30 年来,阿克苏各族干部群众把光秃秃的风沙策源地柯柯牙镇改造成了如今的“塞外江南”,书写了新疆版的塞罕坝荒漠绿化奇迹。近几年,扶贫干部带领柯柯牙镇的村民们,利用先进技术改良果种,创新销售模式,摆脱贫困,共同走上富裕之路,开启了阿克苏地区高质量发展的新征程。

材料二 2020 年 12 月,中央经济工作会议召开。会议指出,2020 年我国成为全球唯一实现经济正增长的主要经济体,2021 年世界经济形势仍然复杂严峻,我国要增强忧患意识,坚定必胜信心,推动经济持续恢复和高质量发展。

材料三 畅想 2035



(1)材料一体现了哪些发展理念?请结合材料分析说明。(5 分)

(2)阅读材料二,依据“携手促发展”的相关知识,说明我国应如何积极谋求发展。(8 分)

(3)阅读材料三,结合我国 2035 年的发展目标,请写出你對自己 2035 年的畅想(照抄材料不得分)。(2 分)

新疆维吾尔自治区
新疆生产建设兵团

2020 年初中学业水平考试·道德与法治

考生须知:

1. 本试卷满分 75 分,考试时间 60 分钟。
2. 考试时,考生可带教材及相关资料;遵守考场纪律,独立完成考试。
3. 答卷时请用钢笔或中性笔先将密封线内的项目填写清楚,然后将答案填写在试卷相应的位置上。

题号	第一部分	第二部分			总分
		16	17	18	
得分					

第一部分(选择题 共 30 分)

一、单项选择题(本大题共 15 小题,每小题 2 分,共 30 分)

1. 我国脱贫攻坚决战决胜年是 ()
A. 2020 年 B. 2021 年 C. 2022 年 D. 2023 年
2. 2020 年 3 月,习近平饱含深情地盛赞:_____不愧为英雄的城市,必将通过打赢这次抗击新冠肺炎疫情斗争再次被载入史册! ()
A. 北京 B. 上海 C. 武汉 D. 拉萨
3. 新疆工作在党和国家工作全局中具有特殊重要的战略地位。新疆必须坚持的总目标是 ()
①社会稳定 ②人民幸福 ③长治久安 ④依法治疆
A. ①② B. ②④ C. ③④ D. ①③
4. 友谊,像一株慢慢生长的植物,需要精心养护,经受风雨的洗礼、时间的磨砺。下列“呵护友谊”的做法正确的是 ()
A. 杨明在考试时,给朋友传答案 B. 赵霞把朋友的秘密告诉了别人
C. 体育课上朋友身体突发不适,刘洁细心照料 D. 李军和别人闹矛盾,约朋友一起去教训那人
5. 美好集体是我们共同学习、生活的精神家园。美好集体是 ()
①民主的、公正的 ②充满关怀与友爱的
③善于合作和充满活力的 ④可以满足我们所有需求的
A. ①②④ B. ①②③ C. ②③④ D. ①③④
6. “2019 年感动中国人物”顾方舟是我国脊髓灰质炎疫苗研发生产的拓荒者。在疫苗问世后,他以身试药。疫苗向全国的推广,使数十万儿童免于致残。顾方舟的行为告诉我们 ()
①一个人的伟大,在于创造和贡献
②生命是宝贵的,生命的价值高于一切
③生命包括社会关系中的生命和精神信念上的生命两个方面
④在挫折面前,人们容易做出过激的行为,甚至伤害自己的身体
A. ①② B. ③④ C. ②③④ D. ①②③

7. 2020 年 5 月,第十三届全国人民代表大会第三次会议审议民法典草案。该草案物权编对无权占有情况下的损害赔偿责任等作了规定。材料表明 ()

- ①物权编的规定保护了公民的人格尊严权
②人民代表大会是我国的最高国家权力机关
③每一部法律都是应生活的需要而制定和颁布的
④法律规范着全体社会成员的行为,保护着我们的生活

A. ①④ B. ②④ C. ③④ D. ①③

8. 法治是治国理政的基本方式。我国的根本法是 ()

- A. 宪法 B. 刑法 C. 立法法 D. 义务教育法

9. 在庆祝中华人民共和国成立 70 周年之际,国家主席习近平签署主席令,授予 42 人国家勋章和国家荣誉称号。材料体现出国家主席行使的职权是 ()

- A. 任免权 B. 荣典权 C. 外事权 D. 公布法律、发布命令

10. 读右图并思考,图中人物的行为 ()

- ①是民事违法行为
②扰乱了正常的交通秩序
③警示我们要自觉遵守规则
④告诉我们行使权利无界限

A. ①②③ B. ①③④
C. ②③ D. ②④



11. 2020 年 3 月,中共中央、国务院印发的《关于全面加强新时代大中小学劳动教育的意见》指出:劳动教育,植根中华优秀传统文化,承载劳动立德树人理念。可见,全面加强劳动教育有利于 ()

- ①保障教育公平
②引导社会树立正确的劳动价值取向
③保障学生享受劳动权利,自觉履行劳动义务
④激励学生辛勤劳动、诚实劳动、创造性劳动

A. ②③ B. ①④ C. ①③ D. ②④

12. 新中国成立后,各族人民真正成了国家的主人,在此基础上形成的社会主义新型民族关系是 ()

- ①平等 ②团结 ③互助 ④和谐 ⑤富裕

A. ①②③④ B. ②③⑤ C. ①③④⑤ D. ①②⑤

13. 2020 年 4 月,习近平总书记在参加首都义务植树活动时强调,要牢固树立“绿水青山就是金山银山”的理念,努力打造青山常在、绿水长流、空气常新的美丽中国。这揭示出我国坚持的基本国策是 ()

- A. 依法治国 B. 改革开放 C. 计划生育 D. 节约资源和保护环境

14. 2019 年 11 月,以“新时代,共享未来”为主题的第二届中国国际进口博览会开幕。下列做法与材料中主题所倡导的理念相符的是 ()
- ①2020 年 3 月,叙利亚西北部冲突局势升级,难民潮再起
②2019 年 11 月,中国和马来西亚举行建交 45 周年联谊活动
③2019 年 4 月,第二届“一带一路”国际合作高峰论坛成功举行
④2020 年 3 月,中国政府向世界卫生组织捐款,用于新冠肺炎疫情防控工作
- A. ①②③ B. ①③④ C. ②③④ D. ①②④
15. 2019 年 6 月,国家统计局起草的《全国人口普查条例修正案(征求意见稿)》向全社会公开征求意见,李飞提出了自己的意见。李飞参与民主生活的方式是 ()
- A. 民主选举 B. 民主监督 C. 民主决策 D. 民主管理

第二部分(非选择题 共 45 分)

二、非选择题(本大题共 3 小题,其中第 16 小题 14 分,第 17 小题 16 分,第 18 小题 15 分,共 45 分)

16. (14 分)阅读材料,运用所学知识回答下列问题。

材料一 2019 年在庆祝教师节之际,国家主席习近平向受到表彰的先进集体和个人表示祝贺。习近平主席经常关心自己的老师,他说:“教过我的老师很多,至今我都能记得他们的样子,他们教给我知识、教给我做人的道理,让我受益无穷。”

材料二 “2019 最美科技工作者”黄才发长年扎根教育和农村科普工作一线,搭建起了山里孩子迈向科学殿堂的桥梁。他多年如一日地开展科普工作,大力培养“兴趣+能力”的特长型学生,注重开发学生创造潜力,充分发挥科技助学的作用,让科技成就青春梦想!

(1)材料一中习近平主席尊重和关心老师的行为,启示我们如何与老师建立良好的关系?(8 分)

(2)材料二中黄才发老师“注重开发学生创造潜力”的原因是什么?(6 分)

17. (16 分)阅读材料,运用所学知识回答下列问题。

材料一 2020 年,面对新中国成立以来我国遭遇的传播速度最快、感染范围最广、防控难度最大的新冠肺炎疫情,从湖北到全国,在党中央统一指挥下,拧成一股绳、下好一盘棋,形成了众志成城抗击疫情的局面,这彰显了中国特色社会主义制度具有独特的优势。

(1)请在下表①②③④处填写“中国特色社会主义制度”的相关内容。(作答请标明相应序号)(4 分)

基本经济制度	①
②	人民代表大会制度
基本政治制度	中国共产党领导的多党合作和政治协商制度
	③
	④

材料二 新疆某校开展了以“防控疫情、法治同行”为主题的法治宣传活动,同学们收集到了如下资料:全国人大常委会部署公共卫生领域立法修法工作;新疆检察机关针对个别经营者哄抬价格,牟取暴利的行为,以涉嫌非法经营罪提起公诉;某人编造虚假疫情信息并传播,受到严重处罚……

(2)请运用所学的法律知识,概括出材料二揭示了哪些道理。(8 分)

(3)请你为当前开展“疫情常态化防控”宣传工作设计两条标语。(4 分)

18. (15 分)阅读材料,运用所学知识回答下列问题。

中国梦归根到底是人民的梦,必须紧紧依靠人民来实现,必须不断为人民造福。中华民族伟大复兴的中国梦终将在一代代青年的接力奋斗中变为现实。

材料一 2020 年 5 月,《中共中央、国务院关于新时代推进西部大开发形成新格局的指导意见》发布。意见指出:要坚持以人民为中心,把增强人民群众的获得感、幸福感、安全感放到突出位置。其中,要着力强化公共就业创业服务。

材料二 “大国工匠”徐立平,从小对机械工程就有浓厚的兴趣;初中毕业后报考了技工学校,学习期间,他养成了做事精益求精、不断追求知识、不断提高技能的习惯;走向工作岗位后,他勇于创新,有 20 多种设计发明,其中两种获得国家专利。

(1)请运用“共享发展成果”的知识分析,党和政府“坚持以人民为中心”的原因。(6 分)

(2)结合徐立平的事迹分析,我们应该如何做好职业准备?(6 分)

(3)中国梦的实现需要青春的担当,你认为“青春的担当”应该具有哪些优良品质?(至少三点,3 分)

新疆维吾尔自治区
新疆生产建设兵团

2019 年初中学业水平考试·道德与法治

考生须知:

1. 本试卷满分 75 分,考试时间 60 分钟。
2. 考试时,考生可带教材及相关资料;遵守考场纪律,独立完成考试。
3. 答卷时请用钢笔或中性笔先将密封线内的项目填写清楚,然后将答案填写在试卷相应的位置上。

题号	第一部分	第二部分			总分
		16	17	18	
得分					

第一部分(选择题 共 32 分)

一、单项选择题(本大题共 16 小题,每小题 2 分,共 32 分)

1. 中共中央总书记、国家主席习近平在 2019 年春节团拜会上的讲话中指出:2019 年,我们将为全面建成小康社会收官打下决定性基础,以优异成绩庆祝中华人民共和国成立_____。()
A. 70 周年 B. 80 周年 C. 90 周年 D. 100 周年
2. 2018 年 10 月,我国世界级工程_____正式建成通车。它是世界总体跨度最长、钢结构桥体最长、海底沉管隧道最长的跨海大桥,创造了一系列“世界之最”。()
A. 武汉长江大桥 B. 港珠澳大桥
C. 胶州湾跨海大桥 D. 杭州湾跨海大桥
3. 近年来,新疆始终聚焦总目标、服从服务总目标、坚定落实总目标,确保以习近平同志为核心的党中央治疆方略落到实处。党中央治疆方略是()
①依法治疆 ②团结稳疆 ③长期建疆 ④创新兴疆
A. ①③④ B. ①②④ C. ①②③ D. ②③④
4. 中华民族的最高利益是_____,维护祖国统一。()
A. 实现共同富裕 B. 加强和巩固民族团结
C. 维护国家安全 D. 促进世界和平与发展
5. 2019 年度全国最美家庭揭晓,新疆有 22 户家庭榜上有名,这些家庭用孝心、爱心弘扬和传承着文明家风。孝亲敬长()
①只是成年人的事情 ②是中华民族的传统美德
③是每个中国公民的法定义务 ④要落实到行动上,从身边的小事做起
A. ①②③ B. ①②④ C. ①③④ D. ②③④
6. 水是生命之源。2012 年—2018 年底,新疆农村饮水安全巩固提升工程,累计解决了 300 多万贫困人口的饮水安全问题。这一举措启示我们,守护生命首先要关注()
A. 精神的需求 B. 物质的富有 C. 自己的身体 D. 外在的形象


7. 古语说:“千人同心,则得千人力;万人异心,则无一人之用。”可见,集体的力量来源于()
A. 成员数量的多少 B. 集体利益的获得
C. 集体中个性的发展 D. 成员共同的目标和团结协作

8. 2019 年 3 月,国家市场监督管理总局等部门颁布的《学校食品安全与营养健康管理规定》要求:中小学、幼儿园每餐应由学校相关负责人与学生共同用餐。这一要求()
①有利于维护教育公平 ②有利于保护未成年人健康成长
③有利于保障未成年人的物质帮助权 ④体现了对未成年人的学校保护和社会保护
A. ②④ B. ①③ C. ②③ D. ①④

9. 漫画《监管》给我们带来的启示是()

- ①网络不是法外之地
- ②要学会辨析网络信息
- ③发布虚假信息就要受到刑罚处罚
- ④在网络生活中要恪守道德、遵守法律

- A. ①③④ B. ①②④
C. ②③④ D. ①②③



监管

10. 2018 年 12 月 4 日是我国第 5 个国家宪法日。一切权力属于人民的宪法原则,归根到底就是要保证()
A. 人民当家作主 B. 依法治国 C. 民主集中制 D. 司法公正
11. 2018 年 9 月,中国企业家协会发布“中国企业 500 强”榜单,国家电网、中国石化、中国石油分列前三名;民营企业增至 230 多家,与国有企业各占半壁江山。这表明()
A. 公有制经济是国民经济的主导力量
B. 国有经济是社会主义经济制度的基础
C. 非公有制经济包括个体经济、私营经济和集体经济
D. 我国坚持公有制为主体、多种所有制经济共同发展
12. 我国宪法规定:中华人民共和国人民法院是国家的()
A. 权力机关 B. 行政机关 C. 审判机关 D. 法律监督机关
13. 党的十九大报告中指出:中国特色社会主义进入新时代,我国社会主要矛盾已经转化为人民日益增长的_____需要和不平衡不充分的发展之间的矛盾。()
A. 美好生活 B. 政治生活 C. 社会生活 D. 物质文化生活
14. 新疆统筹推进教育脱贫攻坚,2018 年累计拨付南疆四地州各类学生资助资金 44 亿元。重视教育是因为()
①百年大计,教育为本 ②教育是当代中国最鲜明的特色
③教育是民族振兴、社会进步的基石 ④教育是培养创新型人才、促进人的全面发展的根本途径
A. ①②③ B. ①②④ C. ②③④ D. ①③④
15. 2019 年中国北京世界园艺博览会,向世界传递了中国坚定走绿色发展之路的决心和信心。下列行为体现公民践行绿色发展理念的是()
①某市在公共区域使用节能路灯 ②李华上学坚持乘坐公共交通工具

- ③某造纸厂随意将污水排入河水中 ④王亮用旧塑料瓶制作了手工艺品
A. ①③ B. ②④ C. ①② D. ③④

16. 中共中央总书记、国家主席习近平指出:在新时代的伟大征程上,只要始终发扬中国精神,振奋起全民族的精气神,就一定能够创造出更加辉煌的人间奇迹。中国精神就是 ()
①雷锋精神的具体体现 ②社会主义核心价值观
③以爱国主义为核心的民族精神 ④以改革创新为核心的时代精神
A. ①② B. ①③ C. ③④ D. ②④

第二部分(非选择题 共43分)

二、非选择题(本大题共4小题,其中第17小题8分,第18、19小题各12分,第20小题11分,共43分)

17. (8分)阅读材料,运用所学知识回答下列问题。

新疆维吾尔自治区第十三届人民代表大会第二次会议的政府工作报告指出:2018年,新疆就业、教育、扶贫等各项惠民工作取得新成效。农村富余劳动力转移就业280.5万人次,城镇居民人均可支配收入增长6.5%左右,实施棚户区住房改造47.09万套,九年义务教育成果得到巩固……一批涉及群众切身利益的民生难题得到有效解决,各族群众的获得感、幸福感、安全感不断提升!

(1)结合材料分析,党和国家保障和改善民生的意义是什么?(4分)

(2)青少年应该为“建设美丽新疆,共圆祖国梦想”做出哪些努力?(至少两点,4分)

18. (12分)阅读材料,运用所学知识回答下列问题。

材料一 2019年4月,中共中央总书记、国家主席习近平在纪念五四运动大会上深情寄语:“新时代中国青年要锤炼品德修为。人无德不立,品德是为人之本。止于至善,是中华民族始终不变的人格追求。”

材料二 为中国直升机追梦40载的吴希明说:“我的青春邂逅了中国直升机的春天。”少年时,他就把直升机的研发确定为自己的人生航标;高中毕业时,他报考了当时全国唯一有直升机专业的学院;工作后,面对直升机研发缺经验、缺技术等难题,他说:“必须干出来!肯定能干出来!”……吴希明主持研发的直10取得了成功,我国直升机技术和产业发展迈入了一个新的时代。

(1)结合材料一分析,作为新时代的中国青年应该如何做到“止于至善”? (6分)

(2)运用“少年有梦”的相关知识分析,吴希明的追梦经历对我们实现人生梦想有哪些启示?(6分)

19. (12分)阅读材料,运用所学知识回答下列问题。

2019年3月,第十三届全国人民代表大会第二次会议在北京召开。某校八年级(2)班组织学生学习会议精神,下面是同学们搜集到的资料:

资料一 大会审议了国务院政府工作报告,表决通过了《中华人民共和国外商投资法》,批准了2019年中央预算等多项重要内容。

资料二 李克强总理会见采访全国两会的中外记者时强调:中国现在有2.8亿多农民工,我们要善待农民工,不仅要给他们提供打工的机会,而且要保障他们应有的所得。现在不时发生农民工被拖欠工资的问题,我们要立法规,坚决打击那些恶意拖欠工资的行为,确保农民工打工有机会,而且合法权益得到保障。

(1)资料一中全国人民代表大会行使了哪些职权?请结合材料说明。(6分)

(2)请你结合资料二分析,农民工工资被恶意拖欠时应该如何依法维权?(至少三点,6分)

20. (11分)阅读材料,运用所学知识回答下列问题。

当今中国正大踏步走近世界舞台中央,上演着一个个精彩动人的中国故事,世界为之喝彩。

材料一 2019年4月,国家主席习近平出席第二届“一带一路”国际合作高峰论坛并发表主旨演讲。习近平指出:共建“一带一路”不仅为世界各国发展提供了新机遇,也为中国开放发展开辟了新天地。只要大家齐心协力、守望相助,即使相隔万水千山,也一定能够走出一条互利共赢的康庄大道。

材料二 人民日报指出:讲故事是国际传播的最佳方式。讲好中国故事,关系国家形象,关系我国的国际话语权,关系提升国家文化软实力。当中国故事像蒲公英一样飞向世界各个角落,中国定能赢得世界更广泛的欢迎和赞誉。

(1)结合材料一分析,中国与其他国家和地区是如何共享发展机遇的?(6分)

(2)假如你参加“讲好中国故事”的比赛,请你从“社会主义核心价值观国家层面的价值目标”中,选取一个故事主题,并简要说明选取的理由。(5分)