

新疆维吾尔自治区
新疆生产建设兵团

2023年初中学业水平考试

历史试题卷(开卷)

1. 本试卷分单项选择题和非选择题。
2. 本试卷满分为 75 分,考试时间为 60 分钟。

题号	一	二				总分
		16	17	18	19	
得分						

一、单项选择题(本大题共 15 小题,每小题 2 分,共 30 分。请按答题卷中的要求作答)

1. 在河南东南部的淮河上游,有一处距今 8 000 多年的舞阳贾湖遗址,那里出土了炭化稻粒和家猪骨骼。这证实贾湖居民 ()
- A. 已经学会保存火种 B. 会建造半地穴式房屋
- C. 过着原始农耕生活 D. 会制作简单乐器骨哨
2. 精美的历史文物包含着丰富的历史信息。下列文物体现的是 ()



利簋



四羊方尊



青铜面具

- A. 炎黄时期的创造发明 B. 商周时期的文明成就
- C. 春秋时期的经济发展 D. 战国时期的社会变革
3. 辛弃疾所作《南乡子》中有一名句:“天下英雄谁敌手? 曹刘。生子当如孙仲谋。”这里“曹”的主要贡献是 ()
- A. 完成了北方统一 B. 结束了州郡割据的局面
- C. 改善了民族关系 D. 加强了大陆与台湾联系
4. 北宋后期,东南户数已占到全国一半,加上西南则超出三分之二。至“靖康之难”,北方再遭战火蹂躏,大批人口南渡,则又一次促使南北经济差异扩大。材料旨在说明 ()
- A. 宋金对峙局面形成 B. 江南地区初步开发
- C. 南方自然条件优越 D. 全国经济重心南移
5. 明朝中晚期科技在中国文化史上的意义不仅在于对传统技术的总结,而且蕴含着某些带有近代意味的科学精神。下列著作中,能体现这一特点的农业科学巨著是 ()
- A. 《农政全书》 B. 《本草纲目》
- C. 《齐民要术》 D. 《天工开物》

6. 某史学著作中有这样的描述:战争结束后 52 年,经明治维新而疾速发展的日本,打到其先前祖师爷的门前。“打到其先前祖师爷的门前”的战争是 ()
- A. 鸦片战争 B. 第二次鸦片战争
- C. 甲午中日战争 D. 八国联军侵华战争
7. 中国历代都采用帝王纪年。孙中山在就任临时大总统时,即电告各省都督:中华民国,改用阳历。这从侧面反映出辛亥革命的目的是 ()
- A. 揭开民主革命序幕 B. 终结君主专制制度
- C. 推动革命高潮到来 D. 鼓舞全国人民斗志
8. “这次运动大大加速、深化了马克思主义在中国的传播,从而给新文化运动注入了新的、更为强大、更加科学的思想活力。”“这次运动”是指 ()
- A. 洋务运动 B. 义和团运动
- C. 五四运动 D. 国民革命运动
9. 大革命失败后,中国共产党先后领导了一系列武装暴动。其中,集中体现中国革命正确方向的是 ()
- A. 工农武装割据 B. 城市工人起义
- C. 农民武装暴动 D. 敌后战场抗战
10. 1947 年,中国共产党召开全国土地会议,颁布《中国土地法大纲》,实行耕者有其田的土地政策。这让占中国人口绝大多数的农民进一步认识到 ()
- A. 国民党统治陷于孤立的状态
- B. 中国共产党是他们利益的坚决维护者
- C. 中国即将进入和平建设时期
- D. 解放战争即将进入夺取全国胜利阶段
11. 70 多年前的那一场战争中,黄继光用胸膛堵住枪眼为战友冲锋开道,罗盛教跃入冰河以生命换得朝鲜少年安然无恙……他们用生命谱写了惊天地、泣鬼神的雄壮史诗。他们身上表现出的是 ()
- A. 红船精神 B. 长征精神 C. 抗战精神 D. 抗美援朝精神
12. 1953 年,《人民日报》发表元旦社论,号召全国人民同心同德,为实现国家工业化而积极奋斗。由此,全国人民以极高的政治觉悟和生产热情投身于 ()
- A. “一五”计划建设 B. 社会主义改造
- C. 民主政治建设 D. 社会主义改革
13. 埃及人制定了世界上第一部太阳历,将一年分为三季,分别是泛滥季、播种季和收获季,每季四个月,年末另加五天为节日。由此可见,太阳历的制定 ()
- A. 体现了法老的权威 B. 印证了古埃及的神话
- C. 促进了国家的统一 D. 受到了自然环境影响
14. “马克思并未将自己限制在理论上和写作上。在他的一生中,为组织和鼓动工人们,他将知识活动同各种尝试结合起来。”与 1848 年马克思的“尝试”相关联的是 ()
- A. 在《莱茵报》上发表文章 B. 为共产主义者同盟起草纲领
- C. 参与组建国际工人协会 D. 移居伦敦撰写著作《资本论》

15. 亚非拉民族民主运动是 20 世纪的历史潮流。到 90 年代,185 个联合国成员中,战后独立的国家占了多数。这反映出 ()
- A. 民族民主运动开始兴起 B. 社会主义力量得到加强
- C. 世界殖民体系走向崩溃 D. 独立运动彻底改变世界

二、非选择题(本大题共 4 小题,其中第 16 小题 7 分、第 17 小题 15 分,第 18 小题 12 分,第 19 小题 11 分,共 45 分)

16. 通过不同类别的材料,我们可以感受到历史演进的脉搏。阅读下列材料,回答问题。(7 分)



新疆哈密出土的彩陶罐

A

《福乐智慧》中有大量关于国家观念和伦理道德的阐述。提出“要仁爱为怀,保护人民”“优良的品德乃为善之本”等思想,充分体现了儒家文化的影响。

——《简明新疆地方史》

B



左宗棠

C

(1)将以上材料按不同类别进行分类。(只填写字母)(3 分)

①文献类:_____ ;②实物类:_____ ;③图像类:_____。

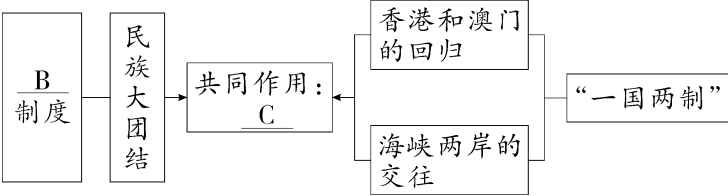
(2)能印证“中华文化多元一体”的材料是_____ 和_____。(只填写字母)(4 分)

17. 某班同学以“统一多民族国家的演进与家国情怀”为主题,开展活动课学习,请你参与其中,并完成相关问题。(15 分)

(1)在“个人自主学习”时,有同学总结出“统一多民族国家的演进历程”简表(见下表)。你认为 A 处应该补写的内容是什么?以“隋唐”或“元明清”时期边疆治理方面的两例史实说明其“特点”。(8 分)

时期	特点
秦汉	统一多民族国家的 _____ A _____
隋唐	统一多民族国家的重建和繁荣
元明清	统一多民族国家的稳固和发展

(2)在“小组合作探究”中,某小组以示意图的方式展示了新中国成立后统一多民族国家发展的部分内容(见下图)。B 处实行的制度是什么?概括 C 处的共同作用。(4 分)



(3)在“班级专题论坛”上,同学们分享了小组搜集到的以下人物的名言名句。据此谈谈,在统一多民族国家演进过程中,你的责任与担当是什么?(3 分)



林则徐:苟利国家生死以,岂因祸福避趋之



杨靖宇:白山黑水齐出动,复兴我中华



钱学森:科学没有国界,但科学家有自己的祖国

18. 纵观世界文明史,人类先后经历了三次产业技术革命。每一次产业技术革命,都给人类生产生活带来巨大而深刻的影响。阅读下列材料,回答问题。(12分)

【农业革命】

西欧资本主义产生有两个阶段。14和15世纪是第一阶段。这时,西欧的封建关系已经得到了充分的发展,在封建社会内部孕育了资本主义生产关系的最初形态。
——刘景华《人类六千年》

(1)材料中西欧的“最初形态”在农业方面的显著表现是什么?有何作用?(4分)

【工业革命】

煤的许多衍生物的开发是工业研究实验的实际应用的一个最惊人的例子。煤不仅能生产焦炭和煤气,还能产生一种液体即煤焦油。化学家们发现,在煤焦油中藏着真正的宝贝:数百种染料、阿司匹林、糖精、消毒剂、香水、烈性炸药等。
——摘编自斯塔夫里阿诺斯《全球通史》

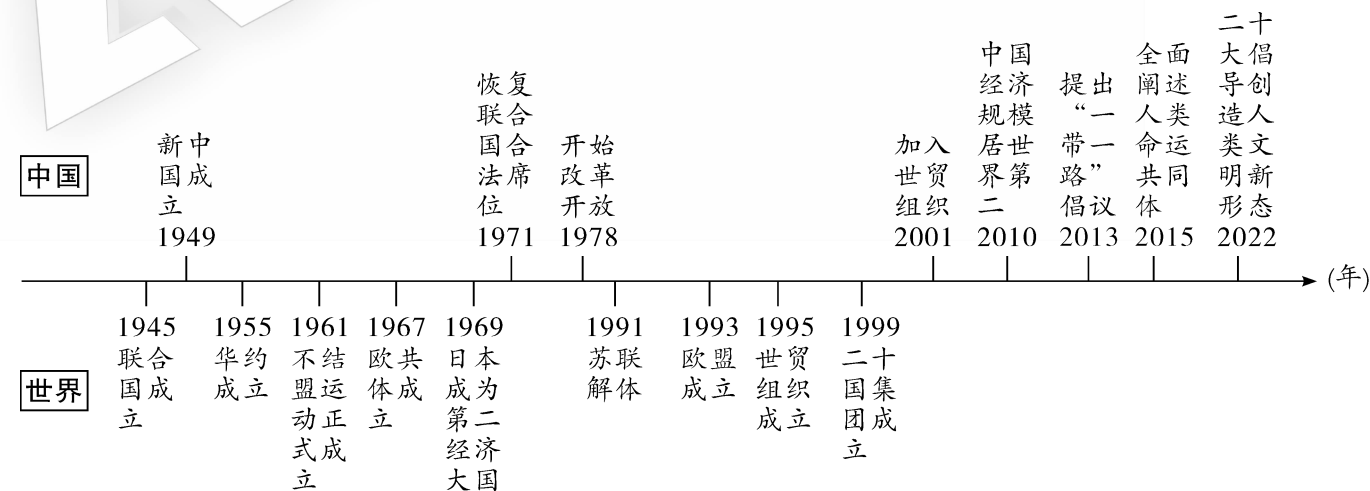
(2)结合所学知识,煤的大量开采与哪一动力机器的使用有关?它的衍生物“染料”等的出现反映出哪一新型工业的产生?(4分)

【信息革命】

今天,几乎是瞬时的电子通信消解了时间和空间。当代观察家将我们这一时代贴上了“存取时代”的标签。在无线电、电视、传真机和网络计算机的交流中,一个地球村出现了。
——杰里·本特利等《简明新全球史》
(3)依据材料,使“地球村”出现的主要原因是什么?举一例说明信息革命给你的学习带来的便利。(4分)

19. 阅读材料,回答问题。(11分)

第二次世界大战后的中国与世界年代尺(部分)



参照“示例”,任选材料中相互关联的三个事件,结合所学自定一个你想论述的观点,加以阐述或说明。(要求:观点正确,史论结合,条理清楚)

【示例】

观点:中国为构建国际政治经济新秩序作出了贡献(2分)

选择的史实:提出“一带一路”倡议;全面阐述人类命运共同体;二十大倡导创造人类文明新形态。(3分)

论述:2013年,中国提出“一带一路”倡议,并筹建和成立亚投行,成为140多个国家和地区的主要贸易伙伴,在国际事务中发挥着重要的作用。当前,世界百年未有之大变局加速演进,中国推进大国协调和合作,提出构建人类命运共同体。2022年,中共二十大倡导创造人类文明新形态,为解决人类面临的共同问题贡献了中国智慧、中国方案、中国力量。(6分)



新疆维吾尔自治区
新疆生产建设兵团

2022年初中学业水平考试

历史试题卷(开卷)

1. 本试卷分单项选择题和非选择题。
2. 本试卷满分为 75 分,考试时间为 60 分钟。

题号	一	二				总分
		16	17	18	19	
得分						

一、单项选择题(本大题共 15 小题,每小题 2 分,共 30 分。请按答题卷中的要求作答)

1. 考古学家在北京人遗址发现了近 10 万件石器,包括刮削器、尖状器、石锤等。这些石器从早期到晚期有明显变化,打制技术逐步提高。这表明北京人 ()
- A. 会制作工具 B. 有爱美意识
- C. 懂得人工取火 D. 掌握磨光技术
2. 下面三幅图画摹绘自敦煌莫高窟壁画。这些原是北方少数民族的坐具,在魏晋南北朝时期引入内地。这反映了 ()



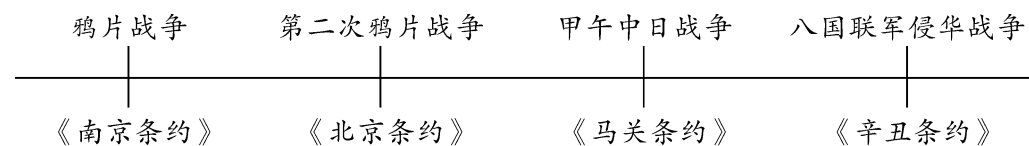
胡床

椅子

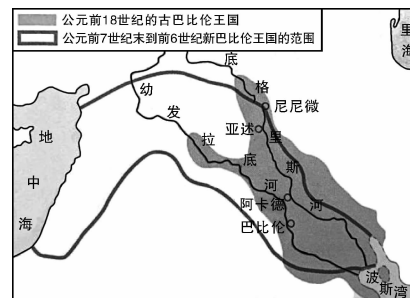
方凳

- A. 内迁各族生活习惯一致 B. 祖国边疆地区得到开发
- C. 民族间的交往交流交融 D. 经济重心南移最终完成
3. 唐朝前期,先后出现了被誉为“贞观之治”和“开元盛世”的升平时期。这一时期 ()
- A. 开通了大运河 B. 完善了三省六部制
- C. 开创了科举制 D. 发明了活字印刷术
4. 黄仁宇在《中国大历史》中指出,货币之流通较前普及,火焰器之使用,航海用之指南针,船只使用不漏水舱壁等都出现于某一朝代。该朝代是 ()
- A. 秦朝 B. 汉朝 C. 隋朝 D. 宋朝
5. 这支队伍满载着中国的优质丝绸、精美瓷器、上等茶叶和漆器等各类物品,访问过今天的越南、马来西亚、斯里兰卡和坦桑尼亚等国,促进了中国与亚非国家的友好交往。材料描述的可能是 ()
- A. 鉴真东渡 B. 玄奘西行 C. 郑和下西洋 D. 甘英出使大秦

6. 如下图所示,近代以来中华民族遭受了前所未有的苦难。这警醒我们青少年要 ()



- A. 认同中华优秀传统文化 B. 为实现中华民族伟大复兴而奋斗
- C. 具有民族自信心自豪感 D. 把握中华民族多元一体发展趋势
7. 七七事变后,中国共产党实行正确的抗日民族统一战线政策,坚持全面抗战路线,提出和实施持久战的战略总方针和一整套人民战争的战略战术,开辟广大敌后战场和抗日根据地,领导八路军、新四军、东北抗日联军和其他人民抗日武装英勇作战。这充分说明 ()
- A. 抗日战争促进了中华民族的觉醒 B. 世界各国人民团结合作才能赢得和平
- C. 中国是世界反法西斯战争的东方主战场 D. 中国共产党在全民族抗战中发挥了中流砥柱作用
8. 八年级历史学习小组计划在假期开展一次红色主题研学活动,实地了解 1949 年 4 月 23 日国民党在大陆统治结束的史实。他们应该选择去 ()
- A. 北京 B. 南京 C. 锦州 D. 徐州
9. 他认定了写实主义的艺术目标,一往无前为之呐喊、传播和奋斗;他创作了《田横五百士》《愚公移山》等一大批艺术精品,表现出艺术家的社会责任感和爱国主义精神。他是 ()
- A. 徐悲鸿 B. 齐白石 C. 冼星海 D. 聂耳
10. 毛泽东说土地改革“是中国人民民主革命继军事斗争以后的第二场决战”。这是因为它 ()
- A. 开辟了中国历史的新纪元 B. 确立了我国的根本政治制度
- C. 建立了社会主义基本制度 D. 彻底摧毁了我国的封建土地制度
11. 第一个五年计划期间,鞍钢技术革新能手王崇伦发明和改进了“万能工具胎”,一年完成三年的劳动定额。这一时期出现了“每一秒钟都为创造社会主义社会而劳动”的口号。材料反映的精神内涵是 ()
- A. 乐于助人 B. 严守纪律 C. 忘我奉献 D. 生命至上
12. 大国关系事关全球战略稳定。20 世纪 70 年代,中国和美国、日本关系改善主要是因为中国 ()
- A. 国际地位的提高 B. 实行了对外开放 C. 推行全方位外交 D. 建成了小康社会
13. 只有在特定的时空框架中,才可能对历史有准确的理解。对下图所示文明,下列说法正确的是 ()



- A. 产生于北非的尼罗河流域 B. 人类最早文明发祥地之一
- C. 此地人们发明了象形文字 D. 奥林匹克运动会源于此地

14. 新航路的开辟大大提升了海路在世界贸易中的重要性,传统的印度洋贸易和新兴的大西洋贸易、太平洋贸易形成齐头并进的态势。这反映了新航路开辟的 ()

- A. 背景 B. 过程 C. 特点 D. 影响

15. 1949 年 4 月,美国和英、法等国成立北大西洋公约组织,并于 1955 年 5 月接纳联邦德国为成员。苏联随即成立包括民主德国和其他东欧国家在内的华沙条约组织。这导致 ()

- A. 美苏冷战开始 B. 美苏战时同盟关系破裂
C. 两极格局形成 D. 欧洲冷战对峙局面形成

二、非选择题(本大题共 4 小题,其中第 16 小题 8 分,第 17 小题 12 分,第 18 小题 14 分,第 19 小题 11 分,共 45 分)

16. 学习历史要了解重要事件、人物和现象以及历史发展的基本线索。阅读材料,按要求作答。(8 分)

①公元前 60 年,西汉政府设立西域都护府,标志着新疆地区正式纳入中国版图。自此以后,历代中央政权都将西域视为故土,行使着对新疆地区的管辖权。②唐朝先后设立安西都护府和伊犁将军府,进一步加强了中央政府对新疆地区的管辖。19 世纪中后期,西北边疆危机加剧。清政府任命左宗棠为钦差大臣收复新疆,③并于 1881 年正式建立新疆省,维护了边疆的稳定和国家领土的完整。1949 年 9 月,在中国共产党的领导下,新疆实现和平解放,进入了一个崭新的历史时期。

历史上中央政权对新疆地区的持续性治理表明 ④ (A. 新疆是我国领土不可分割的一部分 B. 新疆各民族文化扎根于中华文明沃土)。

(1)对①~③处画线部分进行判断,正确的填“T”,不正确的填“F”。(6 分)

(2)在④处填合适的选项。(2 分)

17. 阅读材料,回答问题。(12 分)

材料一



图 1



图 2

(1)结合所学知识,图 1、图 2 人物分别是谁? 他们所处时代的学术思想对中国历史发展产生了什么影响?(4 分)

材料二 马克思主义中国化是贯穿中国革命、建设、改革、复兴的主线,也是中国共产党人在不同历史时期能够克服重重障碍不断实现新的突破、取得新的胜利最可靠的思想武器。

——赵宏宇《从百年党史看马克思主义中国化》(转载自“学习强国”)

(2)结合所学知识,各举 1 例阐述“革命”及“改革”时期,中国共产党如何运用马克思主义中国化的成果“实现新的突破、取得新的胜利”。(6 分)

材料三 新的征程上,我们必须……坚持把马克思主义基本原理同中国具体实际相结合、同中华优秀传统文化相结合,用马克思主义观察时代、把握时代、引领时代,继续发展当代中国马克思主义、21 世纪马克思主义!

——习近平《在庆祝中国共产党成立 100 周年大会上的讲话》

(3)假如由你设计以“马克思主义中国化”为主题的黑板报,需要把“当代中国马克思主义、21 世纪马克思主义”的特点写入其中,你会写什么? 请从材料中提取。(2 分)

18. 人类共享一个家园,各国同处一个世界。阅读材料,回答问题。(14 分)

【嬗变】

“工业化”指的是以农业和手工业生产为中心的经济向以工业和机器生产为特征的经济转化的过程。这个过程最主要的特征是,技术和组织上的变化改变了生产,带来了生产率的提高。工业化使国际分工日益深化……把世界所有地区的人们联系在了一起。

——摘编自[美]杰里·本特利《新全球史》

(1)“工业化”开始于哪一国家? 根据材料,概括“这个过程”对世界历史发展的积极影响。(5 分)

【困顿】

当 19 世纪末 20 世纪初整个世界被瓜分完毕、资本主义世界殖民体系建立起来的时候,主要资本主义国家也发展到帝国主义阶段。但是,它们之间扩张与争夺的加剧,也孕育着新的更大的冲突。

——普通高中教科书历史必修《中外历史纲要(下)》

(2)根据材料并结合所学知识,分析“主要资本主义国家也发展到帝国主义阶段”的历史背景。之后出现的“新的更大的冲突”指什么事件?(5 分)

【憧憬】

我们要顺应历史大势,致力于稳定国际秩序,弘扬全人类共同价值,推动构建人类命运共同体。要坚持对话而不对抗、包容而不排他,反对一切形式的单边主义、保护主义,反对一切形式的霸权主义和强权政治。

——习近平《在 2022 年世界经济论坛视频会议的演讲》

(3)根据材料并结合所学知识,谈谈“构建人类命运共同体”对全球发展的重要意义。(4 分)

19. 作业是理解学习内容、掌握学习方法、提高核心素养的重要手段。绘制示意图是作业的一种形式。请仔细观察下列示意图,按要求回答问题。(11 分)

【单课主干知识总结】

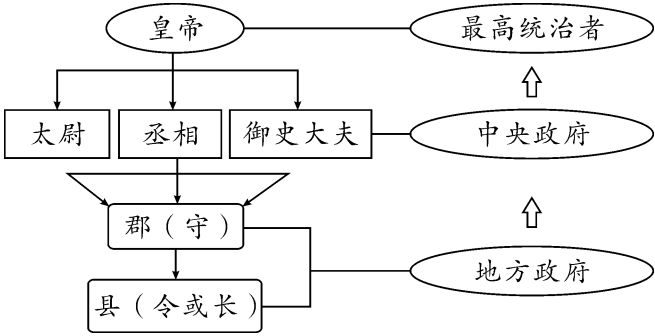


图 1

(1)图 1 所示制度是什么? 创立者是谁?(3 分)

【单元主体结构梳理】

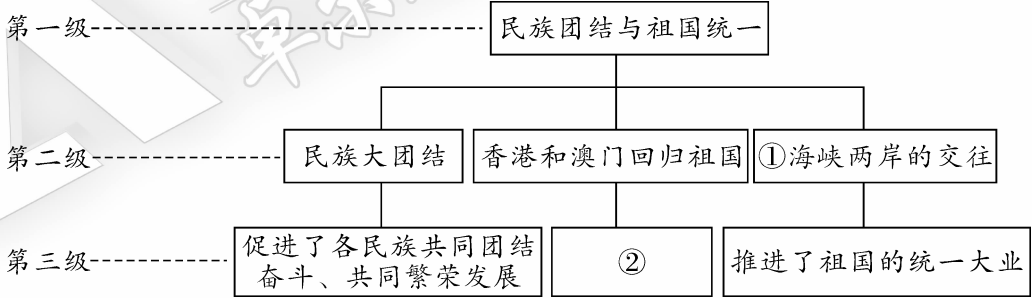


图 2

(2)图 2 中①处实现祖国和平统一的基础是什么? 按照示意图结构,完成②处内容。(4 分)

【跨单元专题概括】

(3)请同学们参照图 2 的结构,绘制一个专题示意图。(4 分)

要求:①从下面 7 个历史事件中最少选择 3 个事件,确立专题名称,作为第一级;②以确立的相关事件作为第二级;③以第二级中的一个事件为例,概括其重要影响,字数不超过 20 字,作为第三级。

洋务运动 俄国农奴制改革 明治维新
戊戌变法 辛亥革命 新文化运动 罗斯福新政

新疆维吾尔自治区
新疆生产建设兵团

2021年初中学业水平考试

历史试题卷(开卷)

1. 本试卷分单项选择题和非选择题。
2. 本试卷满分为 75 分,考试时间为 60 分钟。

题号	一	二				总分
		17	18	19	20	
得分						

一、单项选择题(本大题共 16 小题,每小题 2 分,共 32 分。请按答题卷中的要求作答)

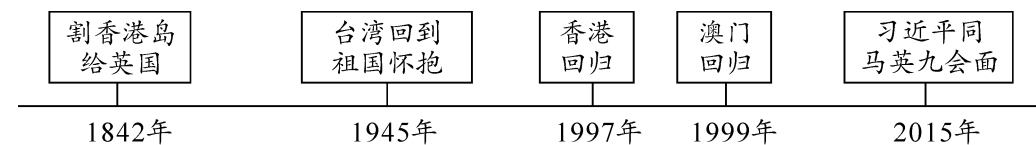
1. 天山将新疆分为南北两部分。702 年,唐朝设立的管辖天山以北广大地区的机构是 ()
A. 西域都护府 B. 安西都护府
C. 北庭都护府 D. 伊犁将军府

2. 掌握历史事件发展线索是历史学习的基本目标。下面表格内容反映的事件是 ()

兴起	全盛		失败	
金田起义	定都天京	北伐、西征	天京事变	天京陷落

- A. 鸦片战争 B. 太平天国运动
C. 戊戌变法 D. 义和团运动
3. 90 年前,抗日战争爆发。中国军队组织多次战役,抵抗日军侵略。下列战役按时间先后排序正确的是 ()
①百团大战 ②平型关大捷
③台儿庄战役 ④第三次长沙会战
A. ①②③④ B. ②①④③
C. ①③④② D. ②③①④
4. 张謇被誉为“民营企业家的先贤和楷模”。当年,他主动放弃高官厚禄,回到家乡创办了 ()
A. 汉阳铁厂 B. 轮船招商局
C. 大生纱厂 D. 商务印书馆
5. 从 1842 年的割地赔款到 2021 年中美战略对话中的唇枪舌剑,历史告诉人们“世界还是那个世界,中国已不是那个中国”。改变了中国的命运,开辟了中国历史新纪元的是 ()
A. 中华人民共和国成立 B. 抗美援朝战争取得胜利
C. 三大改造的基本完成 D. 十一届三中全会的召开

6. 构建知识体系是学习的有效方法。某同学将下列史实串连成线,据此可知他探讨的主题是 ()



- A. 体制改革 B. 钢铁长城
C. 国家统一 D. 民族团结
7. 粮食安全是人民安居乐业的保证。为保障我国粮食安全作出巨大贡献的是 ()
A. 钱学森 B. 袁隆平
C. 王进喜 D. 屠呦呦
8. 2021 年 4~5 月,国家主席习近平同法德领导人举行视频会议、在“领导人气候峰会”上发表讲话、同联合国秘书长通电话、与俄罗斯总统普京共同见证两国核能合作项目。这一系列活动反映我国 ()
A. 顺应经济的全球化
B. 关注全球气候变化
C. 开展全方位的外交
D. 注重新能源的开发
9. 希腊艺术是城邦文明的独特产物。希腊艺术和建筑完美融合的典型代表是 ()
A. 金字塔 B. 万神庙
C. 大竞技场 D. 帕特农神庙
10. 右图是西欧庄园中的劳动场景。图中人物是 ()
A. 庄园中的居民
B. 独立的小生产者
C. 自营地的所有者
D. 庄园法庭的工作人员
11. 《医典》、“智慧宫”、《天方夜谭》等关键词所涉及的国家是 ()
A. 罗马帝国 B. 阿拉伯帝国
C. 法兰克王国 D. 拜占庭帝国
12. 有学者认为:“不仅对于美国,法国大革命对于所有国家而言,都是一个重要的里程碑。”这主要是指法国大革命 ()
A. 扩张了国家的版图 B. 保护了革命的果实
C. 摧毁了君主的统治 D. 具有了世界性影响
13. 1850 年,英国生产了全世界金属制品、棉织品和铁产量的一半,煤产量的 2/3。1860 年,生产了世界工业产品的 40%~50%,欧洲工业品的 55%~60%。这些数据表明英国 ()
A. 成为殖民霸主 B. 成为工业国家
C. 进入“电气时代” D. 建成“福利国家”



劳动中的农奴

14. 某班同学开展有关第二次世界大战内容的学习,下侧史实属于战争爆发的 ()

- 意大利法西斯政权对外扩张
- 希特勒出任德国总理,掌握国家大权
- 日本广田弘毅上台组阁,加紧扩张

- A. 背景 B. 经过
C. 性质 D. 影响

15. 斯大林说:“战时,要保持团结并不太难……艰难的工作在战后,那时,各种不同的利害关系往往会使同盟分裂。”这一“同盟”关系正式破裂的标志是 ()

- A. 杜鲁门主义出台
B. 德意志联邦共和国成立
C. 《华沙条约》签署
D. 北大西洋公约组织建立

16. 国家主席习近平指出,世界各国要维护以联合国为核心的国际体系。这主要是因为联合国 ()

- A. 由世界反法西斯国家提出建立
B. 处理全球问题的权威已经无可撼动
C. 制定规范多边贸易协定并解决贸易争端
D. 担负着维护国际和平与安全的主要责任

二、非选择题(本大题共 4 小题,其中第 17 小题 8 分,第 18 小题 9 分,第 19 小题 12 分,第 20 小题 14 分,共 43 分)

17. 历史理解是指对历史表象背后深层含义的认识。请对下列叙述作出判断,属于历史理解的填“T”,不属于的填“F”。(8 分)

- (1)西汉统一西域前,“西域三十六国”同中原地区不同时期存在的诸侯国一样,都不是独立的国家。 ()
- (2)1894 年,孙中山在檀香山成立兴中会;1905 年,他联合一些革命团体,在东京成立中国同盟会。 ()
- (3)1954 年制定的《中华人民共和国宪法》是我国第一部社会主义类型的宪法,也是我国有史以来真正反映人民利益的宪法。 ()
- (4)《汉谟拉比法典》刻在一块黑色石柱上,除前言外,正文共有 282 条。 ()

18. 中国共产党的百年奋斗历程,是一部战胜无数艰难险阻,应对各种风险挑战,不断推进伟大事业发展的历史。阅读材料,回答问题。(9 分)

【增强党的领导力:应对风险挑战的关键所在】

1934 年 10 月,中央红军开始长征。这时,“左”的错误领导人又犯了退却中的逃跑主义错误。中央红军在突破国民党军队的四道封锁线后,从 8 万余人锐减到 3 万余人。国民党当局布好口袋形阵势,企图将红军一网打尽。危急关头,毛泽东建议中央红军放弃原定计划,立即改向敌军力量较薄弱的贵州挺进。

——摘编自《中外历史纲要》(上)



遵义会议会址

(1)依据材料,概述导致中央红军面临风险的内部原因。遵义会议采取了什么措施应对这次风险挑战?(4 分)

【永远与人民在一起:应对风险挑战的力量源泉】

土地制度改革,是中国共产党领导中国人民从根本上摧毁中国封建制度根基的社会大变革。它让占中国人口绝大多数的农民进一步认识到,中国共产党是他们利益的坚决维护者,因而自觉地在党的周围团结起来,这就为打败蒋介石、建立新中国奠定了最深厚的群众基础。

——《中国共产党简史》

(2)材料中的“封建制度根基”指什么?“土地制度改革”发挥了怎样的作用?(3 分)

密封线内不要答题

【善于运用制度优势:应对风险挑战的根本保证】

这次抗击新冠肺炎疫情的伟大斗争,充分彰显了党的领导和我国社会主义制度的显著优势,极大增强了全党全国各族人民的信心信念。当今世界,要说哪个政党、哪个国家、哪个民族能够自信的话,那中国共产党、中华人民共和国、中华民族是最有理由自信的!

——习近平 2021 年 2 月 20 日在党史学习教育动员大会上的讲话

(3) 依据材料,指出“中国共产党、中华人民共和国、中华民族是最有理由自信的”根源。(2 分)

19. 方向决定前途,道路决定命运。阅读材料,回答问题。(12 分)

材料一 19 世纪中叶,中国和日本被迫敞开国门,接受西方的商人、传教士、领事和炮舰。这两个远东国家都受到了根本的影响,不过是以完全不同的方式。

——摘编自斯塔夫里阿诺斯《全球通史》

(1) 为应对“被迫敞开国门”,19 世纪中叶,中日两国政府各采取了哪一举措? 中国的举措在历史上的地位是什么?(4 分)

材料二 斯大林等苏联领导人认为,苏联经济远比西方资本主义国家的经济落后,苏联应该摒弃资本主义国家走过的工业化道路,优先发展重工业……苏联的工业化速度引起全世界的关注。

——义务教育教科书《世界历史·九年级下册》

(2) 苏联选择的“工业化道路”取得了怎样的成效? 当时发挥的积极作用是什么?(4 分)

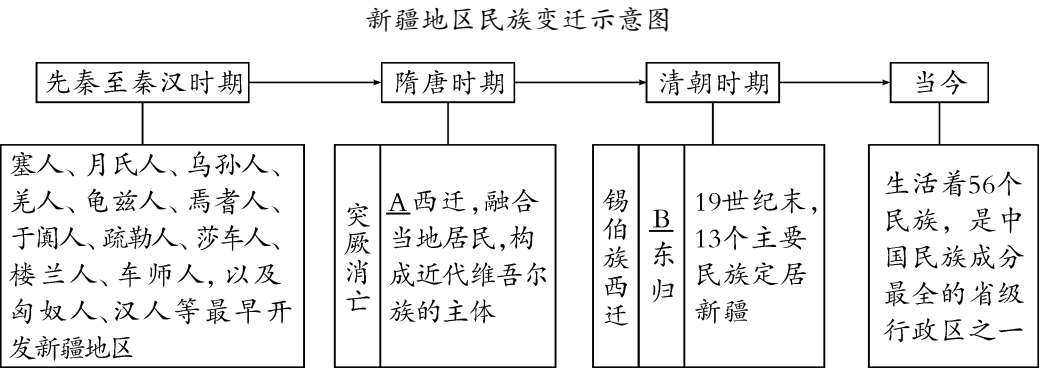
材料三 社会主义究竟是个什么样子,苏联搞了很多年,也并没有完全搞清楚。可能列宁的思路比较好,搞了个新经济政策,但是后来苏联的模式僵化了。

——邓小平《改革是中国发展生产力的必由之路》

(3) 僵化了的“苏联的模式”造成了怎样的结局? 中国“改革”之后,探索的符合本国国情的道路是什么?(4 分)

20. 人口的迁徙和流动对人类社会产生重大影响。阅读材料,回答问题。(14 分)

材料一



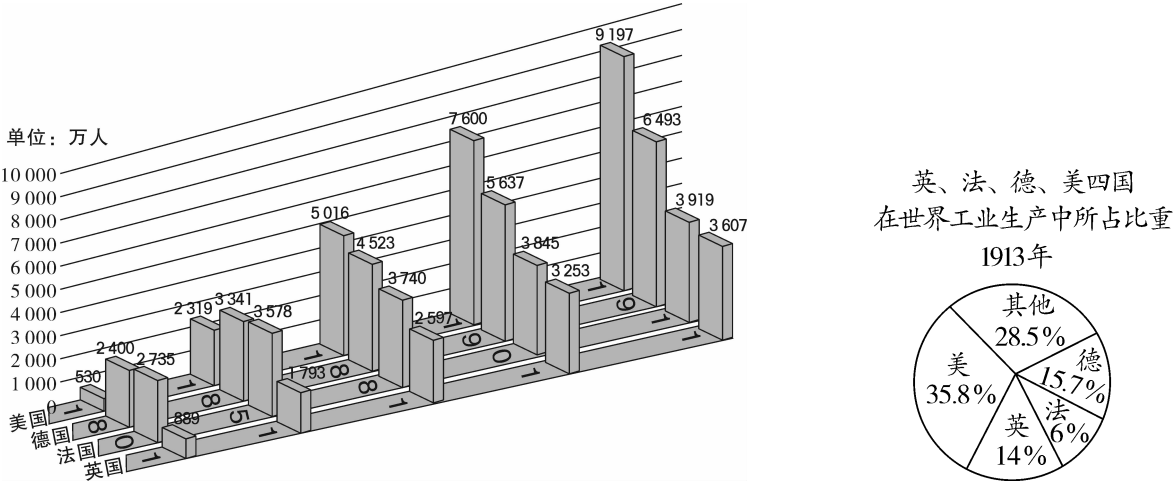
(1) 写出图中 A、B 字母处的内容。从图中你能得出什么结论?(4 分)

材料二 欧洲人的发现不仅导致新的全球性视野,还导致新的全球性种族分布。实际上,1500 年以前,存在着世界范围的种族隔离。到 1763 年,截然不同的种族分布格局已清晰可辨。种族组成方面的更大的变化是向南北美洲的大批移民——对欧洲人来说他们是自愿的,非洲人则是被迫的。

——摘编自斯塔夫里阿诺斯《全球通史》

(2)1500 年前后“欧洲人的发现”指哪一事件?“大批移民”给美洲带来了什么影响?(3 分)

材料三



(3) 上图中人口增幅最大且工业生产实力最强的是哪个国家? 据图并结合所学知识,分析该国经济飞速发展的原因。(5 分)

材料四 根据“七普”数据看人口迁徙流动情况,我国人口流动依然活跃,人口的集聚效应进一步显现。数据显示,我国流动人口 3.76 亿人,比 2010 年增长了将近 70%。从流向看,人口从农村向城市集聚、从内陆地区向东部沿海集聚的总体趋势没有变。

——《从第七次人口普查数据看人口变动的长期趋势及其影响》

(4) 针对“七普”人口流动总体趋势,请你为早日把我国全面建成社会主义现代化国家献计献策。(2 分)

新疆维吾尔自治区
新疆生产建设兵团

2020年初中学业水平考试

历史试题卷(开卷)

1. 本试卷分单项选择题和非选择题。
2. 本试卷满分为 75 分,考试时间为 60 分钟。

题号	一	二				总分
		17	18	19	20	
得分						

一、单项选择题(本大题共 16 小题,每小题 2 分,共 32 分。请按答题卷中的要求作答)

1. 绘画作品往往能够定格历史的瞬间,留下珍贵的历史资料。右图再现的历史事件是 ()
- A. 北伐战争
B. 南昌起义
C. 秋收起义
D. 遵义会议
2. 在鲁迅的小说中,深刻剖析了整个民族的精神弱点,成为批判国民性问题的经典之作是 ()
- A.《子夜》
B.《狂人日记》
C.《阿 Q 正传》
D.《骆驼祥子》
3. 21 世纪的第 17 个指导“三农”工作的中央一号文件于 2020 年 2 月发布。70 年前,中央人民政府颁布了《中华人民共和国土地改革法》。该法令的实施 ()
- A. 摧毁了封建的土地制度
B. 激发了农民参加合作社的热情
C. 确立了社会主义公有制
D. 推动了农村经济体制改革实施
4. 历史解释是历史学科核心素养的重要组成部分。下列对“一国两制”解释正确的是 ()
- ①在祖国统一的前提下,国家的主体坚持社会主义制度,同时在港澳台保持原有的资本主义制度和生活方式长期不变
- ②坚持“一国”是实行“两制”的前提和基础,“两制”从属和派生于“一国”并统一于“一国”之内
- ③是党领导人民实现祖国和平统一的一项重要制度,是中国特色社会主义的一个伟大创举
- ④在“一国两制”构想的指引下,香港、澳门顺利回归祖国,海峡两岸关系不断发展
- A. ①②
B. ③④
C. ①②④
D. ①②③④
5. 人类最早的文明是在适合农业耕作的大河流域产生的。其中两河流域的文明成果是 ()
- A. 通过了一系列的民主改革
B. 修建了呈角锥体状的法老陵墓
C. 制定了一部较为完整的法典
D. 确立了贵贱分明的四等级制度



6. 公元前 4 世纪,马其顿国王的东征和帝国的建立,既给东方人民带来了巨大灾难,也促进了东西方文化的大交汇。其建立的帝国是 ()

A. 波斯帝国
B. 拜占庭帝国
C. 日不落帝国
D. 亚历山大帝国

7. 下列对《封建时代的欧洲》相关内容的表述,连线正确的是 ()

A. 中世纪城市——完全摆脱了国王和领主的控制
B. 庄园法庭——独立的自给自足的经济和政治单位
C. 大学的兴起——欧洲中世纪教育“最美好的花朵”
D.《查士丁尼法典》——后世罗马法典乃至欧洲法学的渊源

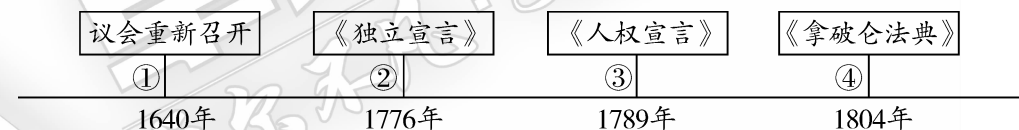
8. 改革是社会进步的助推器。通过吸收中国文化成为中央集权制封建国家的改革是 ()

A. 伯里克利改革
B. 大化改新
C. 彼得一世改革
D. 明治维新

9. 有学者评价某段历史时指出,文化一旦脱离中世纪空想的桎梏,也不能立刻找到理解这个世界的途径。它需要一个向导,并在古代文明的身上找到了这个向导。这位学者评价的是 ()

A. 手工工场出现
B. 租地农场兴起
C. 文艺复兴运动
D. 早期殖民掠夺

10. 运用时间轴培养时空观念是历史学习的基本方法。下列时间轴中,与②对应的事件是 ()

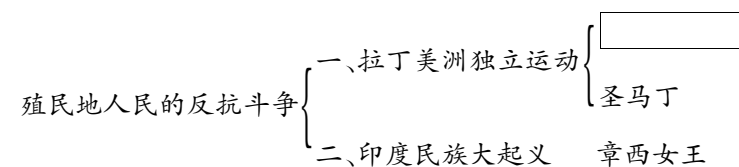


A. 法国大革命
B. 美国独立战争
C. 拿破仑建立帝国
D. 英国资产阶级革命

11. 恩格斯称《共产党宣言》是共产党人的第一个周详的理论和实践纲领,对于确立科学社会主义在工人运动中的主导地位,无疑是完全必要的。这里恩格斯强调的是 ()

A. 工人阶级必须组织起来
B. 用暴力推翻资产阶级统治
C. 需要成立国际工人协会
D. 用科学理论指导工人运动

12. 下侧内容是某同学在学习《殖民地人民的反抗斗争》一课时的笔记。[]中人物应该是 ()



A. 玻利瓦尔
B. 卡斯特罗
C. 纳赛尔
D. 甘地

13. 1866 年,人们铺设了一道横越大西洋的电缆,建立了东半球与美洲之间直接的通讯联络。其主要技术来源于 ()
- A. 工业革命 B. 第二次工业革命
- C. 新航路开辟 D. 第三次科技革命
14. 苏联在全球工业总产量中所占的份额从 1921 年的 1.5% 增长到了 1939 年的 10%。这主要是由其实行了 ()
- A. 新经济政策 B. 战时共产主义政策
- C. 农业集体化运动 D. 社会主义工业化建设
15. 第二次世界大战后,资本主义在发展中出现了许多新变化。其中不包括 ()
- A. 东欧剧变 B. 社会保障制度的建立
- C. 欧洲的联合 D. 美国的发展与日本的崛起
16. 《新时代的中国与世界》白皮书指出,中国有世界上最具潜力的消费市场。中国既是“世界工厂”,也是“全球市场”。这反映出当今世界发展的趋势是 ()
- A. 政治格局多极化 B. 全球经济一体化
- C. 社会生活现代化 D. 文明发展多元化

二、非选择题(本大题共 4 小题,其中第 17 小题 10 分,第 18 小题 14 分,第 19 小题 9 分,第 20 小题 10 分,共 43 分)

17. 依据材料,做出判断。(10 分)

汉武帝接连派出好几支远征大军去讨伐匈奴,最后迫使匈奴各部落或者归顺,或者逃往沙漠地区。这时,贸易紧跟在胜利的中国旗帜之后。中国丝织品是各地最为需要的,至少占中国出口商品的 90%。作为回报,中国也得到了各种物产,如:来自中亚的毛织品和牲畜,来自罗马诸行省的玻璃、珊瑚、珍珠、亚麻布和黄金,其中黄金占首位。

这些货物由商队沿着著名的“丝绸之路”来回运送。“丝绸之路”的主线自中国西北部的长安(西安)开始,向西经河西走廊至塔里木盆地,分为两道,一条道沿盆地的北部边缘,一条道沿盆地的南部边缘,绕过盆地,然后西逾帕米尔高原,穿过撒马尔罕,再绕过里海南端,由此继续西进,至地中海东部沿岸地区的罗马边境。

——摘编自(美)斯塔夫里阿诺斯《全球通史》

以下表述从材料中得出的,请在对应题号后填“√”;违背材料表述的,请在对应题号后填“×”;材料没有涉及的,请在对应题号后填“○”。

- (1) 张骞出使西域,使汉朝了解到西域的具体情况。 ()
- (2) 汉武帝大败匈奴后,丝绸之路得以畅通。 ()
- (3) 丝绸之路促进了中国同其他国家和地区的贸易交流。 ()
- (4) 丝绸之路到塔里木盆地后分为三道,最终到罗马边境。 ()
- (5) 罗马帝国强盛时期的版图横跨欧、亚、非三洲,地中海成为其“内湖”。 ()

18. 阅读下列材料,回答问题。(14 分)

【陷入深渊】

材料一 从 1840 年开始,在炮口的逼迫下,中国社会蹒跚地走入了近代。随后的一百余年里,外国人通过条约“合法”地剥夺榨取、管束控制中国,驱使中国社会脱出常轨,改道变形。

——摘编自陈旭麓《近代中国社会的新陈代谢》

(1) 中国“走入了近代”的标志性事件是什么?“驱使中国社会脱出常轨,改道变形”的三大丧权辱国条约依次是什么?(4 分)

【前赴后继】

材料二

神助拳,义和团,只因鬼子闹中原……
拆铁道,拔线杆,紧急毁坏火轮船。
大法国,心胆寒,英美德俄尽消然。
洋鬼子,尽除完,大清一统靖江山。
——《只因鬼子闹中原》揭帖

孙中山在《民报》发刊词中,将同盟会的政治纲领阐发为“民族”“民权”“民生”三大主义,合称“三民主义”。
——义务教育教科书《中国历史》
八年级上册

(2) 依据材料,义和团将矛头指向什么人?结合所学知识,“民族主义”的含义是什么?“三民主义”的提出有什么意义?(3 分)

【民族解放】

材料三



中共一大会址嘉兴南湖游船



人民解放军强渡长江

(3)中共一大确立的党的奋斗目标是什么?人民解放军强渡长江的结果如何?(3分)

(4)综合上述材料,从中国近代史的发展中,你得到什么启示?请从两个方面回答。(4分)

19. 制度优势是一个国家的最大优势。阅读下列材料,结合所学知识回答问题。(9分)

材料一

中华人民共和国的一切权力属于人民。人民行使权力的机关是全国人民代表大会和地方各级人民代表大会。
——《中华人民共和国宪法》(1954年)

经过长期努力……我国社会主要矛盾已经转化为人民日益增长的美好生活需要和不平衡不充分的发展之间的矛盾。
——中共十九大报告

(1)这部宪法的性质如何?中共十九大确立的我国发展新的历史方位是什么?(3分)

材料二




图1



图2



图3

(2)图1邮票纪念的“中国第一颗人造地球卫星”的名称是什么?图2成就说明我国在航天技术上居于怎样的地位?图3人物2015年在国际上获得了哪项大奖?(3分)

材料三 依靠综合国力和发展需要,中国成功地举办了多次国际盛会,如2008年在北京举行的第29届夏季奥运会,2010年在上海举办的第41届世界博览会,2014年在浙江乌镇举办的世界互联网大会等。2015年,北京、张家口获得2022年第24届冬季奥运会的主办权。一系列国际盛会的举办,向世界展现了一个自信、开放、包容、友善的中国。

——摘编自义务教育教科书《中国历史》八年级下册

(3)依据材料,“一系列国际盛会的举办”向世界展现了怎样的中国?中国特色大国外交形成了怎样的布局?(3分)

20. 阅读下列材料,结合所学知识回答问题。(10 分)

材料一 世界大战是直接由法西斯国家的侵略扩张引起的,法西斯主义就是战争。建立反法西斯统一战线,世界各国人民的同仇敌忾和英勇奋战,是战胜德、意、日轴心国的重要保证。

——摘编自《20 世纪的战争与和平》

(1)“反法西斯统一战线”建立的标志是什么? 两年后,美、英盟军的哪一行动体现了“世界各国人民的同仇敌忾和英勇奋战”? (3 分)

材料二 自九一八事变以来,中国便独自抵抗日本法西斯的侵略,直到太平洋战争爆发。中国的抗日战争与美英在太平洋对日作战密切地联系起来,中国正面战场和敌后战场所抗击的日军兵力,远远超过日军在太平洋战场上投入的兵力总和。

——普通高中教科书《中外历史纲要》上册

(2)简述中国战场在世界反法西斯战争中的作用。(2 分)

材料三 面对新冠肺炎疫情这场第二次世界大战结束以来最严重的全球公共卫生突发事件,各国人民勇敢前行,守望相助、风雨同舟……中国呼吁各国携起手来,共同构建人类卫生健康共同体。

——2020 年 5 月 18 日习近平在第 73 届世界卫生大会视频会议开幕式上致辞

(3)今年(2020 年)是“第二次世界大战结束”多少周年? 当年“各国携起手来”成立的维护世界和平的组织是什么? (3 分)

(4)综合上述材料,你认为怎样才能进一步促进人类的和平与发展?(2 分)

新疆维吾尔自治区
新疆生产建设兵团
2019年初中学业水平考试
历史试题卷(开卷)

1. 本试卷分单项选择题和非选择题。
2. 本试卷满分为 75 分,考试时间为 60 分钟。

题号	一	二				总分
		17	18	19	20	
得分						

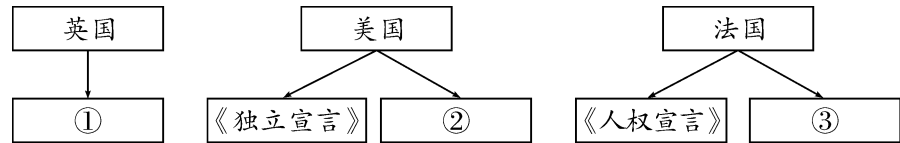
一、单项选择题(本大题共 16 小题,每小题 2 分,共 32 分。请按答题卷中的要求作答)

1. 新疆古称西域,是中国领土不可分割的一部分。西域正式归属中央政权管辖开始于设置 ()
A. 西域都护府 B. 安西都护府
C. 伊犁将军府 D. 北庭都元帅府
2. 唐朝时期,民族之间的交融进一步发展。唐玄宗时,册封回纥首领为 ()
A. “天可汗” B. 怀仁可汗
C. 云南王 D. 渤海郡王
3. 1771 年,战胜重重困难,返回新疆,为多民族国家的巩固和发展谱写了光辉篇章的事件是 ()
A. 平定噶尔丹叛乱
B. 平定大、小和卓叛乱
C. 左宗棠收复新疆
D. 土尔扈特部回归祖国
4. 戊戌变法措施中,属于政治改革内容的是 ()
A. 裁撤冗官冗员 B. 编制国家预算
C. 开办新式学堂 D. 训练新式军队
5. 习近平指出:“英雄是民族最闪亮的坐标。”下列属于抗日战争时期的民族英雄是 ()
①邓世昌 ②赵登禹
③张自忠 ④左权
A. ①②③ B. ①②④
C. ①③④ D. ②③④
6. 1945 年 8 月 29 日,《大公报》社评的题目是《毛泽东先生来了!》。毛泽东“来”到的地方是 ()
A. 重庆 B. 南京
C. 上海 D. 延安

7. 澳门在回归祖国的 20 年中,取得了令人瞩目的发展成就。这一切主要得益于 ()
A. 澳门经济的快速发展
B. 民族区域自治制度的实施
C. 两岸日益密切的交往
D. “一国两制”构想成功实践
8. 1972 年 3 月 6 日,以《尼克松的中国之旅》为标题的一组图片出现在美国《时代》周刊的封面上。这组图片传递的信息是 ()
A. 中国提出“求同存异”方针
B. 中国倡导和平共处五项原则
C. 中美关系开始走向正常化
D. 中美两国正式建立外交关系
9. 2019 年 1 月 3 日,嫦娥四号成功着陆在月球背面,传回了世界第一张近距离拍摄的月背影像图,中国航天事业再传捷报。1999 年 11 月,开启了我国飞天之旅的事件是 ()
A. 东方红一号成功发射
B. 神舟一号无人飞船成功飞行
C. 神舟五号载人飞船成功着陆
D. 神舟七号航天员实现太空行走
10. 上课记笔记是一种好的学习习惯。下图为小军同学的课堂笔记。据此判断,他学习的内容是 ()

时间:12—13 世纪
地点:欧洲
赞誉:“最美好的花朵”
权利:免赋税特权、司法特权、教育自主权

- A. 大化改新 B. 西欧庄园
C. 大学兴起 D. 自治城市
11. 下图是“资本主义制度的初步确立”时期的民主法治建设进程示意图,其中空白处应填入的内容依次是 ()



- A. 《权利法案》 《解放黑人奴隶宣言》 《拿破仑法典》
B. 《权利法案》 1787 年宪法 《拿破仑法典》
C. 《拿破仑法典》 1787 年宪法 《解放黑人奴隶宣言》
D. 1787 年宪法 《权利法案》 《解放黑人奴隶宣言》

12. 铁路时代的到来为社会提供了更为快捷、廉价、便利的交通,使生产和市场之间的联系变得更加密切。铁路时代开始于 ()

- A. 珍妮机的发明
B. 汽车的制造和使用
C. 飞机试飞成功
D. 蒸汽机车正式试车

13. 揭示历史事件之间的因果关系,是历史学习的有效方法。下列事件因果关系表述正确的是 ()

- ①英国殖民统治——印度民族大起义
②葡萄牙殖民统治——玻利瓦尔领导独立运动
③1861 年农奴制改革——开启了俄国近代化的进程
④明治维新——日本迅速走上了发展资本主义的道路

- A. ①②
B. ②③
C. ①④
D. ③④

14. 巴尔扎克的“人间喜剧”小说集,再现了法国 19 世纪早期纷繁复杂的社会图景,其中的经典之作有 ()

- A. 《神曲》
B. 《高老头》
C. 《物种起源》
D. 《英雄交响曲》

15. 两个五年计划完成后,据苏联统计,苏联的工业总产值已跃居欧洲第一位、世界第二位。与这一成就取得有关的是 ()

- A. 苏联模式
B. 新经济政策
C. 赫鲁晓夫改革
D. 勃列日涅夫改革

16. 第二次世界大战后,以美、苏为首的两大集团处于对峙与竞争状态。其中,标志着欧洲冷战对峙局面基本形成的是 ()

- A. 北约的建立
B. 华约的成立
C. 德国的分裂
D. 杜鲁门主义出台

二、非选择题(本大题共 4 小题,其中第 17 小题 8 分,第 18 小题 14 分,第 19 小题 10 分,第 20 小题 11 分,共 43 分。)

17. 学习历史需要了解和掌握准确的史实。请对下列史实作出判断,正确的打“√”,错误的打“×”。(8 分)

- (1) 中国近代史上,西方列强发动的第一次侵华战争是甲午中日战争。 ()
(2) 中国近代民主革命的先行者是孙中山。 ()
(3) 1934 年 10 月,中央红军开始长征,出发地是中华苏维埃共和国首都瑞金。 ()
(4) 谱写了时代的最强音,后来被定为中华人民共和国国歌的是冼星海创作的《义勇军进行曲》。 ()

18. 建立中国共产党、成立中华人民共和国、推进改革开放和中国特色社会主义事业,是五四运动以来我国发生的三大历史性事件,是近代以来实现中华民族伟大复兴的三大里程碑。结合所学知识,回答问题。(14 分)

材料一



五四时期的爱国纪念章



中国共产党第一次全国代表大会上海会址

(1) 作为历史资料的这枚“纪念章”至今(2019 年)已保存了多少年? 中国共产党第一次全国代表大会的召开有什么历史意义?(3 分)

材料二



开国大典

农业和手工业由个体的所有制变为社会主义的集体所有制,私营工商业由资本主义所有制变为社会主义所有制,必然使生产力大大地获得解放。

——毛泽东在 1956 年一次国务会议上的发言

(2) 照片“开国大典”拍摄于什么时间? 毛泽东在 1956 年的这次“发言”针对的是什么事? 这一事件的完成标志着我国进入什么阶段?(4 分)

材料三



中共十一届三中全会会场

以习近平同志为核心的党中央,从坚持和发展中国特色社会主义全局出发,提出并形成了“四个全面”战略布局。

——摘编自义务教育教科书《中国历史·八年级下册》

(3)中共十一届三中全会作出的历史性决策是什么?“四个全面”战略布局有哪些具体内容?

(4分)

(4)综合上述材料,你认为怎样才能实现中华民族伟大复兴?(答出两点即可。3分)

19. 人类在漫长的历史长河中,创造和发展了多姿多彩的文明。文明交流互鉴,是推动人类文明进步和世界和平发展的重要动力。阅读下列材料,回答问题。(10分)

【文明因多样而交流】

A. 金字塔 B. 大竞技场 C. 古印度人从0到9的计数法

(1)上述文明成果属于非洲文明的是哪一个(只写字母)?该成果所属国家发明的文字是什么?

(2分)

【文明因交流而互鉴】

公元前4世纪……建立了一个空前庞大的帝国,其版图西起希腊,东到印度河流域,北抵中亚,南达埃及,地跨欧、亚、非三洲。

——义务教育教科书《世界历史·
九年级上册》

商人们载着汉朝的丝绸等货物,从长安穿过河西走廊,经西域运往中亚、西亚,再转运到更远的欧洲;又把西域的物产和奇珍异宝运到中原。

——义务教育教科书《中国历史·
七年级上册》

(2)“公元前4世纪”建立“帝国”的人是谁?“商人们”行走的这条商路叫什么?这两个事件在历史上发挥的共同作用是什么?(4分)

【文明因互鉴而发展】

12世纪末至13世纪初,中国人发明的指南针,用于“罗盘”导航技术,经阿拉伯商人传到欧洲。13世纪,欧洲水手已经掌握了罗盘技术。

——义务教育教科书《世界历史·九年级上册》

(3)中国“‘罗盘’导航技术”为欧洲哪一重大事件的出现提供了条件?这一事件产生了什么影响?(4分)

20. 历史上曾经召开过多次国际会议,它们在重建国际秩序方面发挥过重要作用。结合所学知识,回答问题。(11分)

材料一 《协约及参战各国对德和约》和《九国公约》是世界大国实力对比变化的结果,确定了新的国际秩序。

——摘编自义务教育教科书《世界历史·九年级下册》

材料二



图 1




图 2 2001 年多哈会议

材料三 让和平的薪火代代相传,让发展的动力源源不断,让文明的光芒熠熠生辉,是各国人民的期待,也是我们这一代政治家应有的担当。中国方案是:构建人类命运共同体,实现共赢共享。

——习近平在日内瓦万国宫高级别会议上的主旨演讲

(1)材料一中的两个条约分别是通过哪次会议签订的?其确定的“新的国际秩序”通常被称为
什么?(3分)

(2)材料二中图 1 所示组织是在哪次会议上决定成立的?图 2 中国加入这一组织体现了世界经
济发展的什么趋势?概述这两大国际组织在当今世界舞台上发挥的作用。(4分)

(3)依据材料三,当今时代的主题是什么?我国提出的中国方案是什么?(2分)

(4)综合以上内容,你认为应该采取怎样的方式来解决国际社会普遍关心的问题?(2分)